

1. Türk İş Birliği ve Koordinasyon Ajansı Başkanlığı (TİKA), Türkiye ile sınırı bulunan, Türkçe konuşulan ve gelişmekte olan ülkelere de destek olmak amacıyla 1992 yılında kurulmuştur. Ayrıca ekonomik, ticari, teknik, sosyal, kültürel konular ile eğitim alanında projeler geliştirerek Türkiye'nin bu ülkelerle arasındaki iş birliğini güçlendirmeyi hedeflemektedir.

Buna göre TİKA'nın kuruluş amaçları arasında aşağıdakilerden hangisi bulunmamaktadır?

- A) Çeşitli alanlarda projeler geliştirmek
B) Türkçe konuşulan ülkelere destek olmak
C) Türkçe konuşulan ülkeler arası iş birliğini güçlendirmek
D) Türkiye'ye gelen uluslararası öğrencilere yardımcı olmak

2. Aşağıdaki görsellerden hangisi Japon kültürüne ait bir unsur değildir?



3. Aşağıdakilerden hangisi günümüzde bağımsız olarak varlığını devam ettiren Türk Cumhuriyetlerinden biri değildir?

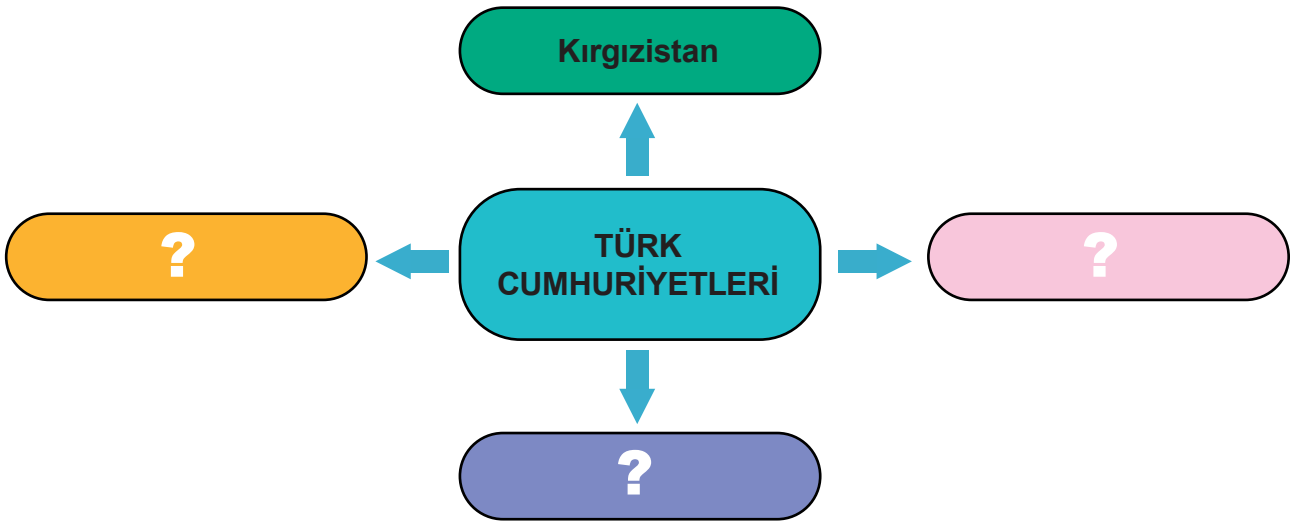
- A) Özbekistan
- B) Kırgızistan
- C) Bulgaristan
- D) Kazakistan

4. Fin eğitimindeki en ilgi çekici uygulamalardan biri çocukların ineklere ve köpeklere kitap okumasıdır. Çocuklar ellerindeki kitaplarla hayvanların yanına gidiyor ve kitaplarını okumaya başlıyorlar. Finlandiyalılar, bu yöntemle çocuğun kendisini yargılayan birisi olmadan onu dikkatle dinleyen bir canlıya kitap okuma imkânı elde ettiğini söylüyorlar. Böylece çocukların öz güven sahibi bireyler olarak yetiştiklerini savunuyorlar.

Yukarıdaki metne göre Finlandiyalıların eğitimde böyle bir yöntemi uygulamalarının amacı nedir?

- A) Çocukların kendine güvenen bireyler olarak yetişmesini sağlamak
- B) Çocukların bilgisayar oyunlarından uzak durmasını sağlamak
- C) Çocuklara kitap okuma alışkanlığı kazandırmak
- D) Çocuklardaki hayvan sevgisini arttırmak

5. Aşağıdaki görselde belirtilen yerlere bağımsız Türk Cumhuriyetlerinin adı yazılacaktır.



Buna göre, bu görsele aşağıdaki ülkelerden hangisi yazılamaz?

- A) Azerbaycan
- B) Gürcistan
- C) Özbekistan
- D) Kazakistan

6. Zeynep, ödev olarak aşağıdaki çalışmayı yapmıştır.



Zeynep'in çalışmasında yer alan ülkelerden hangisi kara sınır komşumuz değildir?

- A) Ermenistan B) Gürcistan C) Özbekistan D) Yunanistan

7. Aşağıdaki ülkeler ve verilen bilgiler eşleştirildiğinde hangi ülke dışarıda kalır?

ÜRDÜN

Türkiye Cumhuriyeti'nin kurucusu olan Mustafa Kemal Atatürk'ün doğduğu Selanik şehri, bu ülkenin sınırları içinde bulunur.

JAPONYA

"İki Devlet Bir Millet" ifadesini kullandığımız kardeş ülkedir.

BULGARİSTAN

Dünyaca ünlü turistik yerlerden biri olan tarihî Petra Antik Kenti bu ülkede bulunur.

AZERBAYCAN

Halkı; düğünlerde, yeni yıl kutlamalarında, mezuniyet törenlerinde ve bayramlarda "kimono" denilen geleneksel giysilerini giyer.

YUNANİSTAN

- A) Azerbaycan B) Bulgaristan C) Japonya D) Yunanistan

8. Aşağıda verilen Türk Cumhuriyetleri ve başkentleri eşleştirmelerinin hangisinde yanlışlık yapılmıştır?

A)



B)



C)



D)



9.

- Başkenti Şam'dır.
- En fazla gümrük kapımız bu ülke ile.
- En uzun kara sınırimızın olduğu komşumuzdur.

Yukarıda verilen bilgiler aşağıdaki ülkelerden hangisine aittir?

A) Irak

B) İran

C) Suriye

D) Ermenistan

10. Aşağıda üç arkadaşın bazı ülkeler hakkında araştırma yaparak öğrendikleri bilgiler verilmiştir.



Başkenti Sofya'dır.
Nüfusunun bir bölümü
Türklerden oluşur. Kapıkule ve
Hamzabeyli sınır kapılarımız vardır.
Nüfusu 7.3 milyon civarındadır.



Başkenti Bakü'dür. Aramızda
tarihten gelen güçlü bağlar
vardır. "İki Devlet Tek Millet"
sözünüyle ülkemiz ile ilişkisini ifade
eden devlettir.



Ülkemizde "Yavru Vatan"
olarak ifade edilir. Başkenti
Lefkoşa'dır. 15 Kasım 1983'te
kurulmuştur. Ülkemiz; bu ülkeyi başta
siyasi, ekonomik ve askeri olmak üzere
her alanda desteklemektedir.

Buna göre, yapılan araştırmada aşağıdaki ülkelerin hangisi ile ilgili bir bilgi yoktur?

- A) Bulgaristan B) Yunanistan C) Azerbaycan D) Kuzey Kıbrıs Türk Cumhuriyeti

11. Aşağıdaki ülkelerden hangisi ülkemizin kuzeybatısında yer alır?

- A) İran B) Suriye C) Azerbaycan D) Bulgaristan

12. Aşağıda TİKA'nın bazı faaliyetleri ile ilgili bilgi verilmiştir. TİKA, 2000'li yıllardan itibaren 5 kıtada 150'ye yakın ülkede kalkınma merkezli işbirliği çalışmaları yapmaktadır.



Kamerun'da Eğitim Altyapısına TİKA Desteği

Kamerun'un Ngaoundere şehri Nyambaska kasabasında 1996 yılında inşa edilen Nyambaska lisesinin yenilenmesi TİKA tarafından tamamlandı.



TİKA'dan Moğolistan'daki 2000 Aileye Gıda Paketi Desteği

TİKA, Tsagaan Sar Bayramı (Millî Bayram) ve Kovid-19 ile mücadeleye destek amacıyla Moğolistan'da 2000 aileye gıda paketi ve hijyen malzemesi dağıttı.



TİKA'dan Gine'ye Yenidoğan Yoğun Bakım Ünitesi

TİKA, yılda yüzlerce yenidoğanın hayatını kaybettiği Batı Afrika ülkesi Gine'de ülkenin ilk hastanesi olma özelliğini taşıyan Konakri Ignace Deen Hastanesi'nde oksijen jeneratörlü yenidoğan yoğun bakım ünitesi açtı.

Buna göre, TİKA'nın faaliyetleri ile ilgili aşağıdakilerden hangisi söylenebilir?

- A) Gelişmiş olan ülkelere ekonomik ve sosyal yardımda bulunur.
B) Sağlık ve eğitim alanında da proje ve faaliyet gerçekleştirir.
C) Sadece Türkiye'ye komşu olan ülkelere yardım etmektedir.
D) Etkinliklerinin tamamını Afrika kıtasında gerçekleştirir.
13. Tarihteki önemli Türk Devletlerinden biri olan Büyük Selçuklu Devleti bu ülke toprakları üzerinde kurulmuştur. Ülke, bu nedenle Selçuklu Türklerinden kalma eserlere ev sahipliği yapmaktadır.

Yukarıda sözü edilen ülke aşağıdakilerden hangisidir?

- A) Irak B) İran C) Ürdün D) Suriye

14.



Suşi, ince şerit halindeki balıkların pirinç ile rulo yapılarak kurutulmuş yosuna sarılmasıyla hazırlanır.

Yukarıda anlatılan bu yemek hangi ülkeye özgüdür?

- A) Japonya B) Finlandiya C) Tayland D) Çin

15. Aşağıdaki ülkelerden hangisi ülkemize komşu değildir?

- A) Irak B) Ürdün C) Gürcistan D) Yunanistan

16. Aşağıdaki ülkelerin hangisinde yaz mevsiminde gece güneşi görülür?

- A) İskoçya B) Bulgaristan C) Türkiye D) Finlandiya

17. Olimpiyat bayrağı üzerindeki beş halkadan biri olan sarı halka hangi kıtayı temsil eder?

- A) Asya B) Amerika C) Avrupa D) Avustralya

18. Japon kültürünün önemli unsurlarından biridir. Kare şeklindeki renkli kâğıt parçalarını katlayarak gemi, kuş gibi şekiller oluşturma sanatıdır.

Japonlara özgü bu kâğıt katlama sanatına verilen isim aşağıdakilerden hangisidir?

- A) Go B) Judo C) Origami D) Kimono

19. Deniz seviyesinden 420 metre aşağıda olan, Ölü Deniz adı da verilen Lut Gölü hangi ülkenin sınırları içerisinde?

- A) Suriye B) Ürdün C) Azerbaycan D) Hindistan

20. Tarihte “Türk Kapısı” adı ile anılan komşumuz aşağıdakilerden hangisidir?

- A) Gürcistan B) Bulgaristan C) Nahcivan D) İran

21. Aşağıdaki tabloda bazı ülkeler ile sınır kapıları eşleştirilmiştir.

Ülke	Sınır Kapısı
Suriye	Cilvegözü
Yunanistan	İpsala
Ermenistan	Dereköy
İran	Gürbulak

Yukarıdaki tabloda hangi ülkenin sınır kapısı yanlış verilmiştir?

- A) Suriye – Cilvegözü
B) Yunanistan – İpsala
C) Ermenistan – Dereköy
D) İran – Gürbulak

22. Aşağıdakilerden hangisi bağımsız Türk Cumhuriyetlerinden biri değildir?

- A) Gürcistan B) Kazakistan C) Türkmenistan D) Özbekistan

23. Aşağıdaki ülkelerin hangisinin resmi dilinde Türkçe sözcüklere benzer sözcükler bulunur?

- A) İskoçya B) Macaristan C) Finlandiya D) Hindistan

24. Arkadaşım Emir, geçen yıl tatilde ormancılıkla geçinen, yaz mevsiminde gece güneşinin görüldüğü, kuzeyi karlarla kaplı olan ve başkenti Helsinki olan ülkeye gitti.

Buna göre Emir, aşağıdaki ülkelerin hangisine gitmiştir?

- A) Bulgaristan B) Ürdün C) Finlandiya D) Yunanistan

25. Türk Cumhuriyetlerinden biri olan Özbekistan'ın başkenti aşağıdakilerden hangisidir?

- A) Taşkent B) Bakü C) Bişkek D) Aşkabat

26. Aşağıdaki ülkelerden hangisi bağımsız Türk Cumhuriyetleri arasında yer almaz?

- A) Türkmenistan B) Bulgaristan C) Kırgızistan D) Azerbaycan

27. "Yavru Vatan" olarak adlandırılan ülke aşağıdakilerden hangisidir?

- A) Kırgızistan
B) Azerbaycan
C) Türkmenistan
D) Kuzey Kıbrıs Türk Cumhuriyeti

28. "Tek Millet İki Devlet" söylemi aşağıda yer alan hangi iki ülkeyi ifade etmektedir?

- A) Ermenistan – Gürcistan
B) Ürdün – Tayland
C) Türkiye – Azerbaycan
D) Yunanistan – Bulgaristan

29.



Merhaba ben Kadir,
Diyarbakır'da oturuyorum. Bu
yıl yaz tatilinde komşu
ülkelerimizden
birinde yaşayan akrabalarımızın
yanına gideceğiz.

Buna göre aşağıdakilerden hangisi Kadir'in gidebileceği ülkelerden biridir?

- A) Kırgızistan B) Özbekistan C) Yunanistan D) Kazakistan

30. Aşağıdaki tabloda bazı bilgiler yer almaktadır.

Bilgi	D/Y
Suşi bir Çin yemeğidir.	
İran sınırı, en uzun kara sınırimızdır.	
Kıbrıs "Yavru Vatan" olarak bilinir.	

Tabloda verilen bilgilerden doğru olanlara "D", yanlış olanlara "Y" yazdığımızda aşağıdaki şekillerden hangisi ortaya çıkar?

A)

D
D
Y

B)

Y
D
D

C)

D
Y
D

D)

Y
Y
D

31.

- Türkiye'nin doğu komşularındandır.
- Tarihte "Türk Kapısı" adıyla bilinmektedir.
- Tek sınır kapımız, Iğdır ilimizdeki Dilucu Sınır Kapısı'dır.

Yukarıda özellikleri verilen komşumuz aşağıdakilerden hangisidir?

A) Azerbaycan

B) Nahcivan

C) Ermenistan

D) Gürcistan

32. Bu kuruluşun temel görevi ülkemizdeki farklı kurumların, söz konusu topluluklara sundukları hizmetleri organize etmektir. Yurt dışında yaşayan vatandaşlarımıza yönelik faaliyetler gerçekleştirmektedir. İlgili tüm kurumlarımızla birlikte yurt dışındaki vatandaşlarımıza ilişkin üstlendiği görev ve sorumluluğu yerine getirmeye çalışmaktadır.

Bu amaçla faaliyet gösteren uluslararası kuruluş aşağıdakilerden hangisidir?

A) Yurt Dışı Türkler ve Akraba Topluluklar Başkanlığı (YTB)

B) Türk İş Birliği Koordinasyon Ajansı Başkanlığı (TİKA)

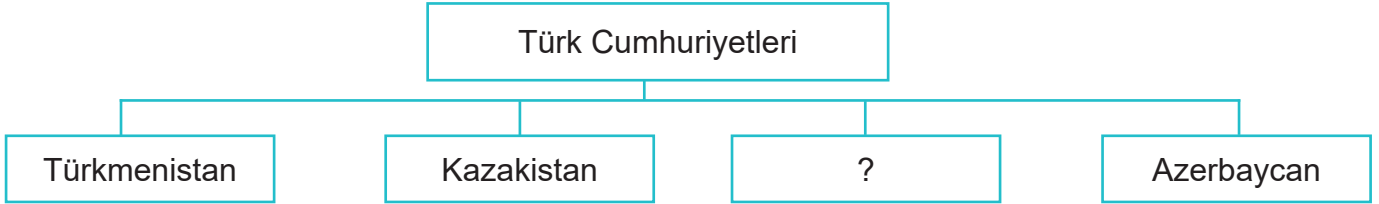
C) Uluslararası Türk Kültürü Teşkilatı (TÜRKSÖY)

D) T.C. Kültür ve Turizm Bakanlığı

33. Aşağıdaki bayraklardan hangisi KKTC'ye aittir?



34. Aşağıdaki görselde Türk Cumhuriyetlerinden bazılarının isimleri verilmiştir.



Görselde verilen soru işaretinin yerine aşağıdakilerden hangisi getirilemez?

- A) Türkiye B) Tacikistan C) Kırgızistan D) Özbekistan

35. Yaz tatilimiz için Karadeniz sahil şehri olan Artvin'i tercih ettik. Karadeniz sahil yolundan ilerleyerek ülkemizin kuzeydoğusundaki Artvin'e geldiğimizde komşu ülkelerimizden birine, sadece kimlik bilgilerimizle giriş-çıkış yapabileceğimizi öğrendik. Bu nedenle tatilimizin bir gününü bu ülkenin bazı yerlerini gezmeye ayırdık. Sarp gümrük kapısından giriş yaparak doğası ile ünlü Batum'u gezmeye fırsatı bulduk, ancak başkent Tiflis'i görme fırsatımız olmadan Artvin'e geri döndük.

Buna göre, metinde sözü edilen ülke aşağıdakilerden hangisidir?

- A) Azerbaycan B) Ermenistan C) Yunanistan D) Gürcistan

36. Azerbaycan'a baęlı özerk cumhuriyettir. "Türk Kapısı" adıyla anılan, Azerbaycan halkı ile Iğdır ilimizdeki Sınır Kapısı'ndan bağlantı kurmamızı sağlar.

Bu metinde boş bırakılan yerlere aşağıdakilerden hangisi getirilmelidir?

- A) Gürcistan – Sarp
- B) Nahcivan – Dilucu
- C) Yunanistan – İpsala
- D) İran – Gürbulak

37. Aşağıda bazı ülkelerin selamlaşırken kullandıkları yöntemler verilmiştir.

Taylandlılar, selamlaşırken avuç içlerini birleştirir ve başparmaklarını çenelerine doğru yaklaşıtırlar.

Macaristan'da selamlaşma genellikle el sıkışma ile olur.

Çin'in Tibet bölgesinde karşılıklı olarak dil çıkarmak oldukça kibar bir selamlaşmadır.

Bu bilgilerden yola çıkarak aşağıdakilerden hangisi söylenebilir?

- A) Bir kişi dięeriyle kendisinin belirledięi şekilde selamlaşır.
- B) Aynı kıta üzerinde yaşayan insanlar benzer ilişkiler kurarlar.
- C) İnsanlar arasındaki selamlaşma şekli, ülkeden ülkeye farklılık gösterebilir.
- D) İnsanlar arasındaki selamlaşma türünü, ülkelerin yiyecek kültürü belirler.

38. Aşağıdaki Türk Cumhuriyetlerinin hangisine kara yolu ile ulaşım saęlanamaz?

- A) Azerbaycan
- B) Kuzey Kıbrıs Türk Cumhuriyeti
- C) Kazakistan
- D) Türkmenistan

39.

TİKA'dan Özbekistan'a Turizm ve Otelcilik Eğitimi

Türk İş Birliği ve Koordinasyon Ajansı Başkanlığı (TİKA), T.C. Millî Eğitim Bakanlığı ile Özbekistan Turizmi Geliştirme Devlet Kurulu iş birliğinde Buhara'da Turizm Otelcilik Eğitimi düzenlendi.



Kırgızistan'da Yuryevka Köyü Temiz İçme Suyuna Kavuştu


Türk İş Birliği ve Koordinasyon Ajansı Başkanlığı (TİKA), Kırgızistanın kuzeyindeki Yuryevka köyünün temiz içme suyu ihtiyacını karşılayan bir projeyi tamamladı.



Yukarıda verilen haber metinlerine göre Türk İş Birliği ve Koordinasyon Ajansı Başkanlığı (TİKA)nın kuruluşun amacı ile ilgili aşağıdakilerden hangisi söylenemez?

- A) Türkçe konuşulan ülkelere destek olmak
- B) Türkiye'ye gelen uluslararası öğrencilere yardımcı olmak
- C) Türk Cumhuriyetleri ile projeler yürüterek iş birliği yapmak
- D) Türk Cumhuriyetleri ile eğitim alanında ortak projeler yapmak

40.



Dünyaca ünlü tarihî ve turistik yerlerden birisi olan Petra Antik Kenti'nde kayalara oyularak inşa edilmiş tiyatro, tapınak ve ev gibi yapılar bulunmaktadır.

Yukarıda fotoğrafı ve bilgileri verilen Petra Antik Kenti hangi ülkede bulunmaktadır?

- A) Japonya
- B) Hindistan
- C) Azerbaycan
- D) Ürdün

41.

Selamlaşırken avuç içlerini birleřtirir ve başparmaklarını çenelerine doğru yaklařtırırlar. Bu arada diđer parmak uçları alınlarına deęecek řekilde başlarını öne doğru eęerler.

Yukarıda selamlaşma řeklinin anlatıldıęı ülke ařaęıdakilerden hangisidir?

- A) Çin B) Tayland C) Japonya D) Finlandiya

42. Her ülkede olduęu gibi Macaristan'da da çocuk oyunları, kültürün önemli bir parçasını oluşturur. Bu oyunlardan birisi de ugroiskola oyunudur. Bu oyunda çocuklar, yere numaralanmış hanelerden oluşan salyangoz řeklinde bir oyun alanı çizerler. Her oyuncunun kendine ait bir taşı olur. Çocuklar önce ellerindeki taşları bir numaralı bölmeye atarlar. Daha sonra sırayla bütün sayıları tek ayak üstende zıplayarak geçmeye çalışırlar.

Ülkemizde ise bu oyunun benzeri seksek olarak bilinir. Kuralları ve amacı bakımından büyük benzerlikler gösterir.

Bu metne göre ařaęıdaki ifadelerden hangisi söylenebilir?

- A) Macarlar, ugroiskola oyununu Türklerden öğrenmiştir.
B) Her ülkede ugroiskola oyunu aynı řekilde oynanır.
C) Macar ve Türk kültürü arasında benzerlik vardır.
D) Seksek çocukların en sevdięi oyundur.

43. Finlandiya ile ilgili aşağıda verilen bilgilerden hangisi doğrudur?

- A) Dünyaca ünlü turistik yerlerinden biri Petra Antik Kenti'dir.
- B) Orta Asya'da yüz ölçümü en geniş olan Türk Cumhuriyetidir.
- C) Ülkelerine "bataklık arazi" anlamına gelen Suomi adını vermişlerdir.
- D) Türkiye ile arasındaki en önemli geçiş noktası Kapıkule Sınır Kapısı'dır.

44.

Asya kıtasının doğusunda yer alan adalar ülkesidir. Balıkçılıkta dünyanın önde gelen ülkelerindendir.



Esra

Başkenti Bağdat'tır. Türkiye ile ticari ilişkileri Habur Sınır Kapısı üzerinden gerçekleştirir.



Arda

Esra ile Arda'nın özelliklerini belirttiği ülkeler aşağıdakilerin hangisinde verilmiştir?

- | <u>Esra</u> | <u>Arda</u> |
|---------------|-------------|
| A) Suriye | Gürcistan |
| B) Azerbaycan | İran |
| C) Japonya | Irak |
| D) Macaristan | Ermenistan |

45. Aşağıdakilerden hangisi Macaristan'a ait kültürel özelliklerden biri değildir?

- A) Macarların dünyaca ünlü yemeği "gulaş"tır.
- B) Selamlaşırken karşılıklı olarak dil çıkarırlar.
- C) Çocuk oyunlarından biri ugroiskola oyunudur.
- D) İnsanlar birbirlerine isim ve soy isimleri ile hitap ederler.

46. Olimpiyat bayrağındaki halkalar yeryüzündeki beş kıtayı temsil eder. Mavi halka Avrupa'yı, sarı Asya'yı, siyah Afrika'yı, kırmızı Amerika'yı, yeşil ise Avustralya'yı gösterir.



Aşağıdaki ülkelerden hangisi Olimpiyat bayrağında mavi ile gösterilen halkadaki kıtada yer alır?

- A) Macaristan B) Japonya C) Kazakistan D) Çin

47. Aşağıda bayrakları verilen devletlerden hangileri kendilerini "İki Devlet Tek Millet" sözüyle ifade etmektedir?

- A)  
- B)  
- C)  
- D)  

48. Finlandiya kış mevsiminde genellikle karanlık bir ülke görünümündedir. Güneş sabahın geç saatlerinde doğar, öğleden sonra da hemen batar. Kışları Kuzey Finlandiya'da hava, ülkenin güneyine göre daha karanlık olur. En kuzey yörelerinde haftalarca güneş doğmaz. Finlandiya'da yazın sıcaklık 10 dereceye kadar yükselirken Kışın -30 dereceye kadar düşer.

Buna göre aşağıdakilerden hangisi kış mevsiminde Finlandiya'da görülen özelliklerdendir?

- A) Güneş erken doğar.
- B) Gündüz süresi uzundur.
- C) Sıcaklık 10 dereceye kadar yükselir.
- D) Ülkenin güneyi, kuzeyine göre daha aydınlıktır.

49. Bulgaristan ülkemizin batısında yer alan iki komşu ülkeden biridir. Başkenti Sofya'dır. Ülkenin çeşitli yerlerindeki Osmanlı Dönemi'nden kalma hamamlar, çeşmeler, köprüler, camiler ve benzeri eserler Türk kültürünün izlerini taşımaktadır. Bulgaristan ile aramızdaki en önemli geçiş noktaları Edirne ilimizdeki Kapıkule ve Hamzabeyli Sınır Kapılarıdır.

Buna göre Bulgaristan ile ilgili aşağıdakilerden hangisi doğrudur?

- A) Başkenti Atina'dır.
- B) Ülke ile aramızda tek sınır kapısı vardır.
- C) Ülkemizin doğusunda yer alan komşu ülkedir.
- D) Sınırları içinde Türk kültürüne ait eserler vardır.

50. ● Başkenti Taşkent'tir.
● Zengin yer altı kaynaklarına sahiptir.
● Ülkenin bağımsızlığını tanıyan ilk ülke Türkiye'dir.
● Ülke ekonomisinde tarım ve hayvancılık önemli yer tutar.

Yukarıda özellikleri verilen ülke aşağıdakilerden hangisidir?

- A) Özbekistan B) Kırgızistan C) Azerbaycan D) Türkmenistan

51. ● Başkenti Bişkek'tir.
● Türkiye ile 1997 yılında Ebedî Dostluk ve İş Birliği Antlaşması'nı imzalamıştır.

Yukarıda özellikleri verilen ülke aşağıdakilerden hangisidir?

- A) Türkmenistan B) Kazakistan C) Özbekistan D) Kırgızistan

52. ● Orta Asya'daki Türk Cumhuriyetleri arasında en geniş yüz ölçümüne sahiptir.
● Türk Cumhuriyetleri içinde en fazla ithalat ve ihracat yaptığımız ülke konumundadır.

Yukarıda özellikleri verilen ülke aşağıdakilerden hangisidir?

- A) Azerbaycan B) Özbekistan C) Kazakistan D) Kırgızistan

53. ● Avrupa ülkesidir.
● Başkenti Budapeşte'dir.
● Dünyaca ünlü yemeği gulaştır.

Yukarıda özellikleri verilen ülke aşağıdakilerden hangisidir?

- A) Macaristan B) Bulgaristan C) Yunanistan D) Türkmenistan

54. ● Adalar ülkesidir.
● Başkenti Tokyo'dur.
● Asya kıtasının doğusunda yer alır.
● Yemek yerken çatal, kaşık ve bıçak yerine çubukları kullanırlar.

Yukarıda özellikleri verilen ülke aşağıdakilerden hangisidir?

- A) Çin B) Tayland C) Japonya D) Finlandiya

55. Türk toplumu, konuksever bir toplumdur. Evine gelen insanları en iyi şekilde ağırlar. Onlara sevgi ve saygı gösterir. Özellikle dini bayramların ayrı bir yeri vardır Türk toplumunda. O günlerde halkımız temiz kıyafetler giyer ve konuklarına ikramda bulunur. Başta aile büyükleri olmak üzere eş dost ziyareti yapılır.

Bu metinde Türk toplumunun hangi özelliğinden söz edilmektedir?

- A) Yardımsever B) Misafirperver C) Hoşgörülü D) Saygılı

56. Ülkelerin dilleri, dinleri, yemekleri, yöresel kıyafetleri, oyunları, sporları, para birimleri, yaşam tarzları, mimari yapıları, sanatları, bayramları farklı olsa da birbirlerine komşu olan ülkeler arasında benzerlikler olabilir.

Buna göre aşağıdaki ülkelerden hangisinin kültürüyle, Türk kültürü arasında daha az benzerlik görülmesi beklenir?

- A) Suriye B) Yunanistan C) Finlandiya D) Bulgaristan

57. **BAKÜ-TİFLİS-KARS DEMİRYOLU HATTI AÇILDI**

Temeli 2007 yılında atılan ve toplam uzunluğu 838 kilometre olan Bakü-Tiflis-Kars demiryolu hattı 30 Ekim 2017 tarihinde hizmete açıldı. İlk etapta 1 milyon yolcu ve 6.5 milyon ton yük taşımanın hedeflendiği, ileride yapılacak kapasite arttırmaları ile bu hattın bölge ülkelerine canlılık getireceği belirtildi.

Bu habere göre Bakü - Tiflis - Kars demiryolu hattındaki şehirler, sırasıyla aşağıdaki ülkelerin hangisine aittir?

- A) Suriye-İrak-İran
B) Ermenistan-Ürdün-İran
C) Yunanistan-Bulgaristan-Türkiye
D) Azerbaycan-Gürcistan-Türkiye

58. “Ben Ömer, Uşak'ta oturuyorum. Bu yıl tatil için ülkemize sınır komşusu olan ülkelerden birine gitmek istiyoruz.

Buna göre Ömer'in tatil için gitmek istediği ülke aşağıdakilerden hangisi olamaz?

A) Bulgaristan

B) Yunanistan

C) İran

D) Türkmenistan

59. Aşağıdaki tabloda bazı bilgiler yer almaktadır.

	D	Y
Finlandiya'da konuşulan Fince, Ural-Altay dil grubunda yer alır.		
Suriye, yurdumuzun kuzey komşularından biridir.		
Doğu komşumuz İran'ın başkenti Tahran'dır.		
Bulgaristan ile kara sınırimız yoktur.		
Macarların dünyaca ünlü yemeği suşidir.		
Kimono, Hintlilere özgü geleneksel bir giysidir.		

Tabloda verilen bilgilerden doğru ise “D”, yanlış ise “Y” kutucuğu boyandığında aşağıdaki şekillerden hangisi ortaya çıkar?

A)

D	Y

B)

D	Y

C)

D	Y

D)

D	Y

60. Misafirlerini, gemiŐi yzyıllar ncesine uzanan bir konukseverlikle ađırlarlar. Eve gelenleri, eđilerek yapılan dnyaca nl selamları ojigi ile karŐırlarlar.

Yukarıda misafir karŐılama geleneđi anlatılan lke aŐađıdakilerden hangisidir?

- A) in B) Japonya C) Tayland D) Finlandiya

61.



Olimpiyat bayrađında bulunan farklı renklerdeki halkalar aŐađıdakilerden hangisini temsil etmektedir?

- A) Őehirleri B) Blgeleri C) lkeleri D) Kıtaları

62. AŐađıda verilen bilgilerden hangisi yanlıŐtır?

- A) zbekistan'ın bađımsızlıđını tanıyan ilk lke Trkiye'dir.
B) Trkmenistan, Trk Cumhuriyetleri arasında en geniŐ yz lmne sahip lkedir.
C) Kırgızistan ile Trkiye arasında 1997 yılında Edeb Dostluk ve İŐ Birliđi AntlaŐması imzalanmıŐtır.
D) lkemizde "Yavru Vatan" olarak adlandırılan Kuzey Kıbrıs Trk Cumhuriyeti 1983'te kurulmuŐtur.

63. Aşağıdaki cümlelerde boş bırakılan yerlere uygun olan kelimeleri yazınız.



- a. 2005 yılında faaliyete başlayan Bakü-Tiflis-Ceyhan Petrol Boru Hattı, petrollerini batı pazarlarına ulaştıran önemli bir enerji koridorudur.
- b., kare şeklinde renkli kâğıt parçasını katlayarak gemi, kuş gibi şekiller oluşturma sanatıdır.
- c. İskoçya'da sadece erkeklerin giydiği yöresel kıyafete adı verilir.
- ç. Ülkemizde "Yavru Vatan" olarak adlandırılan Kuzey Kıbrıs Türk Cumhuriyeti'nin başkenti'dır.
- d.Türkiye ile sınırı bulunan, Türkçe konuşulan ve gelişmekte olan ülkelere destek olmak amacı ile kurulmuştur.
- e. Güney komşumuz en uzun kara sınırimızın olduğu ülkedir.
- f. Gürcistan'da yaşayanTürkleri, iki ülke halkı arasında bir kültür köprüsü oluşturmaktadır.
- g. Dört yılda bir düzenlenen dünyanın en büyük spor organizasyonudur.
- ğ. Ürdün sınırları içinde bulunan, adıyla da bilinen göle giren bir insan göldeki tuzluluk oranı nedeniyle suda batmadan yüzebilir.
- h. Mutfaklarıyla gurur duyan Macarların dana eti ve soğanla yaptıkları dünyaca ünlü yemeğitır.

64. Aşağıda verilen komşu ülkelerimizin karşısına, geçiş noktalarımız olan sınır kapılarımızın adlarını yazınız.

HABUR SINIR KAPISI

DERECİK SINIR KAPISI

ESENDERE SINIR KAPISI

CEYLANPINAR SINIR KAPISI

AKÇAKALE SINIR KAPISI

PAZARKULE SINIR KAPISI

İPSALA SINIR KAPISI

GÜRBULAK SINIR KAPISI

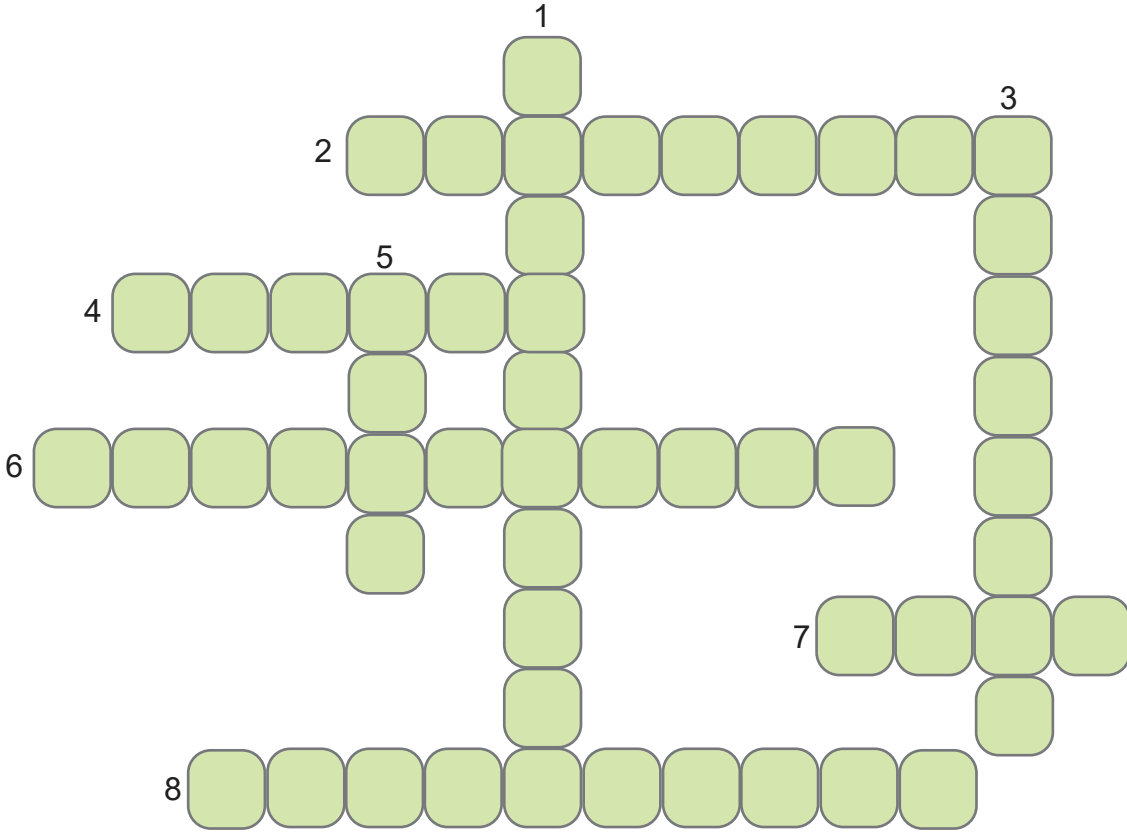
SURİYE

İRAN

YUNANİSTAN

İRAK

65. Aşağıdaki bulmacayı çözünüz.



1. Doğu komşularımızdan biri olan ülkenin başkenti Erivan'dır.
2. Azerbaycan petrolünü ülkemize taşıyan Bakü-Tiflis-Ceyhan petrol boru hattı, bu ülkeden geçerek topraklarımıza ulaşmaktadır.
3. Tarihte "Türk Kapısı" adıyla anılan bu özerk cumhuriyet, Azerbaycan halkıyla doğrudan bağlantı kurmamızı sağlamaktadır.
4. En fazla sınır kapımızın bulunduğu komşumuzdur.
5. Kara sınırı uzunluğu bakımından ikinci sırada olan komşumuzdur.
6. Ülkemizin batısında yer alan ülkenin başkenti Sofya'dır.
7. Güney komşularımızdan biri olan bu ülke ile ticari ilişkilerimizi ağırlıklı olarak Habur Sınır Kapısı üzerinden gerçekleştirmekteyiz.
8. Türkiye Cumhuriyeti'nin kurucusu Gazi Mustafa Kemal Atatürk'ün doğduğu Selanik şehri bu ülkenin sınırları içerisindedir.

66. Aşağıdaki cümlelerde boş bırakılan yerlere uygun olan kelimeleri yazınız.

Bakü	Özbekistan	Kuzey Kıbrıs Türk Cumhuriyeti
Bişkek	Türkmenistan	Kazakistan

- a. Başkenti ----- olan Azerbaycan ile Türkiye kendilerini “İki Devlet Bir Millet” olarak ifade eden kardeş ülkelerdir.
- b. Nüfusu 5,4 milyon olan -----’ın başkenti Aşkabat’tır.
- c. ----- Orta Asya Türk Cumhuriyetleri arasında en geniş yüzölçümüne sahip ülkedir.
- ç. Ülkemizde “Yavru Vatan” olarak adlandırılan -----15 Kasım 1983’te kurulmuştur.
- d. Nüfusu 6 milyon olan Kırgızistan’ın başkenti -----’tir.
- e. Zengin yer altı kaynaklarına sahip olan ----- ‘da altın, doğal gaz, alüminyum, kömür ve mermer çıkarılır.

67. Aşağıda verilen Bağımsız Türk Cumhuriyetlerinin başkentlerini noktalı yerlere yazınız.

Bakü Astana Bişkek Aşkabat Lefkoşa Taşkent

- a. 15 Kasım 1983 yılında bağımsızlığını ilan eden Kuzey Kıbrıs Türk Cumhuriyeti’nin başkenti’dir.
- b. 31 Ağustos 1991 tarihinde bağımsızlığını ilan eden Kırgızistan’ın başkenti’tir
- c. 1 Eylül 1991 yılında bağımsızlığını ilan eden Özbekistan’ın başkenti’tir.
- ç. 18 Ekim 1991 yılında bağımsızlığını ilan eden Azerbaycan’ın başkenti’dür.
- d. 27 Ekim 1991 yılında bağımsızlığını ilan eden Türkmenistan’ın başkenti’tir.
- e. 16 Aralık 1991 yılında bağımsızlığını ilan eden Kazakistan’ın başkenti’dir.

68. Akyaka Sınır Kapısı, Yayladağı Sınır Kapısı, Sarp Sınır Kapısı, Gülyüzü Sınır Kapısı, Gürbulak Sınır Kapısı, Dilucu Sınır Kapısı, Kapıkule Sınır Kapısı, İpsala Sınır Kapısı

Yukarıda verilen sınır kapılarımızı buldukları illere göre noktalı yerlere yazınız.

a. Edirne ilimizdedir. Türkiye ile Yunanistan arasındaki sınır kapımızdır.
(.....)

b. Şırnak ilimizdedir. Türkiye ile Irak arasındaki sınır kapımızdır.
(.....)

c. Edirne ilimizdedir. Türkiye ile Bulgaristan arasındaki sınır kapımızdır.
(.....)

ç. Artvin ilimizdedir. Türkiye ile Gürcistan arasındaki sınır kapımızdır.
(.....)

d. Iğdır ilimizdedir. Türkiye ile Nahcivan arasındaki sınır kapımızdır.
(.....)

e. Hatay ilimizdedir. Türkiye ile Suriye arasındaki sınır kapımızdır.
(.....)

f. Ağrı ilimizdedir. Türkiye ile İran arasındaki sınır kapımızdır.
(.....)

g. Kars ilimizdedir. Türkiye ile Ermenistan arasındaki sınır kapımızdır.
(.....)

69. Aşağıda Türk Cumhuriyetlerine ait bayraklar verilmiştir. Bu bayrakların hangi Türk Cumhuriyetlerine ait olduklarını verilen boşluklara yazınız.



a.



b.



c.



ç.



d.



e.

70. Aşağıdaki tabloda Türkiye'nin komşusu olan ülkeler ve bu ülkelerin başkentleri karışık olarak verilmiştir. Verilen bu ülkeleri ve başkentleri ile eşleştiriniz.

	Ülkeler
a.	Gürcistan
b.	Bulgaristan
c.	Yunanistan
ç.	Ermenistan
d.	İran
e.	Irak
f.	Suriye

	Başkentler
<input type="checkbox"/>	Sofya
<input type="checkbox"/>	Şam
<input type="checkbox"/>	Bağdat
<input type="checkbox"/>	Tahran
<input type="checkbox"/>	Atina
<input type="checkbox"/>	Tiflis
<input type="checkbox"/>	Erivan

71.



Aşağıdaki tabloda istenilen harfleri altta verilen kutucuğa yazarak şifreyi çözünüz.


Yunanistan'ın başkentinin 2. harfi.	
Azerbaycan'ın başkentinin 4. harfi.	
Ermenistan'ın başkentinin 2. harfi.	
Finlandiya'nın başkentinin 7. harfi.	
Gürcistan'ın başkentinin 5. harfi.	
Bulgaristan'ın başkentinin 4. harfi.	
Özbekistan'ın başkentinin 5. harfi.	
Suriye'nin başkentinin 2. harfi.	
Ürdün'ün başkentinin 5. harfi.	
Kırgızistan'ın başkentinin 6. harfi.	
Irak'ın başkentinin 2. harfi.	
İran'ın başkentinin 4. harfi	
KKTC'nin başkentinin 7. harfi.	



72. Aşağıdaki ifadelerden doğru olanların başına “D”, yanlış olanların başına “Y” yazınız.

D/Y	İFADELER
a.	Çin'in Tibet bölgesinde karşılıklı dil çıkarmak, selamlaşmaktır.
b.	Origami, Japonlara özgü yemek çeşididir.
c.	Azerbaycan ile Türkiye “İki Devlet Bir Millet” olarak ifade edilen kardeş ülkelerdir.
ç.	Suriye, güneyde en uzun kara sınırimızın olduğu komşu ülkedir.
d.	Yunanistan batıdaki sınır komşumuz olup başkenti Bişkek'tir.
e.	Kıyafetler, yemekler, kültürler dünya üzerindeki bütün ülkelerde aynıdır.
f.	Ürdün'ün dünyaca ünlü turistik yerlerinden Petra Antik Kenti'nde kayalara oyularak inşa edilmiş tiyatro, tapınak gibi yapılar bulunur.
g.	Olimpiyat bayrağında bulunan halkalar, yeryüzündeki beş kıtayı temsil eder.

73. Aşağıdaki bulmacayı çözünüz.



KOMŞULARIMIZ

1. Türkiye ile arasında Dilucu Sınır Kapısı olan özerk cumhuriyet.
2. En uzun kara sınırimızın olduğu ülke.
3. Irak'ın başkenti.
4. Başkenti Atina olan ülke.
5. Yüz ölçümü, ülkemizin yaklaşık iki katı olan doğu komşumuz.
6. Bakü-Tiflis-Ceyhan boru hattının geçtiği komşumuz.
7. Sınır kapılarımızın kapalı olduğu ülke.

74. Aşağıdaki ülkeleri tablodaki uygun yerlere yazınız.

KKTC	Bulgaristan	Özbekistan	Türkmenistan	Yunanistan
Gürcistan	Suriye	Ermenistan	İran	Kırgızistan
	Kazakistan	Irak	Azerbaycan	

KOMŞUMUZ OLAN ÜLKELER

- a.
- b.
- c.
- ç.
- d.
- e.
- f.

TÜRK CUMHURİYETLERİ

- a.
- b.
- c.
- ç.
- d.
- e.

75. Aşağıdaki ifadelerden doğru olanların başına "D", yanlış olanların başına "Y" yazınız.

D/Y	İFADELER
a.	Dört yılda bir düzenlenen olimpiyatlar dünyanın en büyük spor organizasyonudur.
b.	Olimpiyat bayrağı beyaz zemin üzerine iç içe geçmiş, farklı renklerdeki altı halkadan meydana gelir.
c.	Başkenti Helsinki olan Finlandiya, bir Avrupa ülkesidir.
ç.	Finlandiya'nın en dikkat çekici coğrafi özelliklerinden biri yaz mevsiminde görülen gece güneşidir.
d.	Ürdün, Kızıldeniz'in kuzeyinde bir Orta Doğu ülkesidir.
e.	Bulgaristan ile aramızdaki en önemli geçiş noktaları Edirne ilimizdeki Kapıkule ve Hamzabeyli Sınır Kapılarıdır.
f.	Batıdaki komşularımızdan biri Yunanistan'dır. Başkenti ise Sofya'dır.
g.	Batı Trakya Türklerinin hakları 1923 tarihli Lozan Antlaşması ile güvence altına alınmıştır.
ğ.	Yunanistan ile Türkiye arasındaki sınır kapıları Edirne ilimizdeki İpsala ve Pazarkule'dir.
h.	Nahcivan ile tek kapımız İğdır ilimizdeki Dilucu Sınır Kapısı'dır.

76. Aşağıda verilen Türk Cumhuriyetlerini, bayraklarını ve başkentlerini çizerek eşleştiriniz.

1. Azerbaycan

a.



I. Bişkek

2. Kırgızistan

b.



II. Astana

3. Özbekistan


c.



III. Lefkoşa

4. Türkmenistan

ç.



IV. Bakü

5. Kazakistan

d.



V. Aşabat

6. Kuzey Kıbrıs Türk Cumhuriyeti

e.



VI. Taşkent

77. Resfebe; resimler ve harfleri farklı şekillerde kullanarak bir kelimeyi ve cümleyi bulmaya dayanan bir akıl oyunudur.

Örnek:  → Bal – On = Balon

Aşağıda verilen resfebeleri çözüünüz.



a.



b.



c.



ç.



d.



e.



f.



g.



ğ.



h.

78. Aşağıdaki ifadelerden doğru olanların başına “D”, yanlış olanların başına “Y” yazınız.

D/Y	İFADELER
a.	Türkiye'nin doğu komşularından biri de Gürcistan'dır ve başkenti Tiflis'tir.
b.	Türkiye ve Gürcistan vatandaşları, Sarp Sınır Kapısı'ndan sadece kimlik belgesini kullanarak kolayca seyahat edebilmektedir.
c.	Türkiye'nin doğu komşularından olan Ermenistan'ın başkenti Erivan'dır.
ç.	Türkiye'nin doğu komşularından biri olan İran'ın başkenti Şam'dır.
d.	Tarihteki önemli Türk devletlerinden biri olan Büyük Selçuklu Devleti, Irak'ta kurulmuştur.
e.	Türkiye'nin en az sınır kapısının bulunduğu komşusu Suriye'dir.
f.	Türk Cumhuriyetleri, Sovyetlerin 1991'de dağılması üzerine bağımsızlıklarını kazandı.
g.	Azerbaycan'ın başkenti Bakü'dür.
ğ.	Türkmenistan'ın başkenti Aşkabat'tır.
h.	Zengin yer altı kaynaklarına sahip olan Özbekistan'dan altın, doğal gaz, alüminyum, kömür ve mermer çıkarılır.

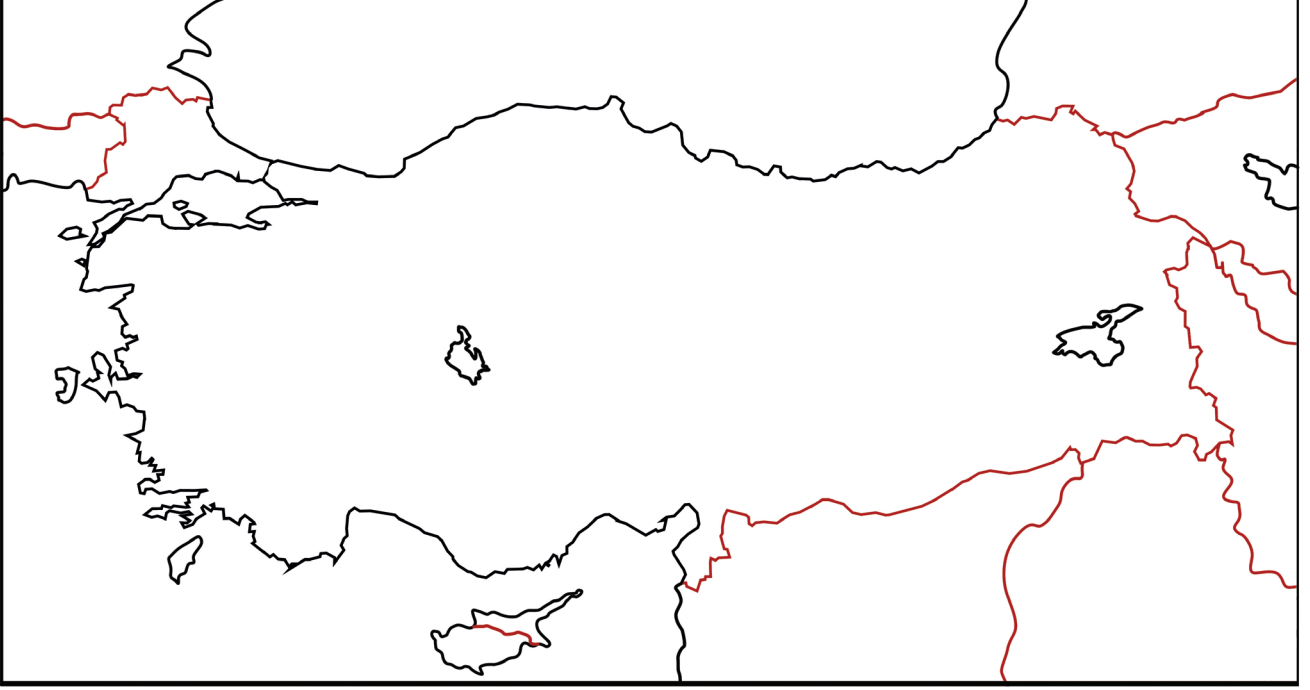
79. Aşağıdaki ifadelerden doğru olanların başına “D”, yanlış olanların başına “Y” yazınız.

D/Y	İFADELER
a.	Özbekistan'ın bağımsızlığını tanıyan ilk ülke Türkmenistan'dır.
b.	Kırgızistan'ın başkenti Bişkek'tir.
c.	Orta Asya'daki Türk Cumhuriyetleri arasında en küçük yüz ölçümüne sahip olan ülke Kazakistan'dır.
ç.	Kazakistan, Türk Cumhuriyetleri içinde en fazla ithalat ve ihracat yaptığımız ülke konumundadır.
d.	Kazakistan'da 1993 yılında Hoca Ahmet Yesevi Uluslararası Türk-Kazak Üniversitesi kurulmuştur.
e.	Ülkemizde “Yavru Vatan” olarak adlandırılan Kuzey Kıbrıs Türk Cumhuriyeti 15 Kasım 1983'te kurulmuştur.
f.	Bir Avrupa ülkesi olan Macaristan'ın başkenti Bükreş'tir.
g.	Japon yemekleri denilince akla ilk olarak “gulaş” gelir.
ğ.	Hindistan'da sol elle yemek yemek, hatta tabağa sol elle bile dokunmak görgü kurallarına aykırı bir hareket olarak kabul edilir.

80. Aşağıda verilen ifadelerle kavramları eşleştiriniz. İfadelerin başındaki rakamı, kavramların başındaki yay ayrıçların () içine yazınız.








İFADELER	KAVRAMLAR
1. Finlandiya'nın yaz mevsiminde görülen en dikkat çekici coğrafi özelliğine verilen ad.	() Gürcistan
2. Finlandiya'da 20 Mayıs'tan 24 Temmuz'a kadar geçen yaz döneminde güneşin batmadığı döneme verilen ad.	() Petra Antik Kenti
3. Ürdün'ün dünyaca ünlü tarihi turistik yerlerinden olan, kayalara oyularak inşa edilmiş tiyatro, tapınak ve ev gibi yapıların bulunduğu yere verilen ad.	() kimono
4. Yunanistan'da Osmanlı Dönemi'nden kalma eserlerin en tanınmışlarından biri olan caminin adı.	() Kırgızistan
5. Azerbaycan petrolünü ülkemize taşıyan Bakü-Tiflis-Ceyhan Petrol Boru Hattı'nın geçtiği ülkenin adı.	() ojigi
6. Gürcistan'da yaşayan ve iki ülke halkı arasında bir kültür köprüsü oluşturmakta olan soydaşlarımıza verilen ad.	() Türkmenistan
7. Irak ile ticari ilişkilerimizin ağırlıklı olarak gerçekleştiği sınır kapısının adı.	() Sultan Çelebi Mehmet
8. Türk firmalarının Orta Asya'da en fazla proje üstlendikleri ülkenin adı.	() gulaş
9. 1997 yılında Ebedî Dostluk ve İş Birliği Antlaşması imzaladığımız ülkenin adı.	() Ahıska Türkleri
10. Macarların dünyaca ünlü yemeğine verilen ad.	() Habur Sınır Kapısı
11. Japonların eve gelen misafirlerini karşılarken eğilerek yaptıkları dünyaca ünlü Japon selamına verilen ad.	() ruska
12. Japonların düğünlerde, yeni yıl kutlamalarında, mezuniyet törenlerinde ve bayramlarda giydiği geleneksel giysilerine verilen ad.	() gece güneşi

81. Aşağıda Türkiye haritası verilmiştir.



Verilen harita üzerindeki uygun yerlere sınır komşumuz olan ülkelerin isimlerini yazınız.

82. Aşağıda verilen ülkeleri ve bu ülkelerin başkentlerini örnekteki gibi eşleştiriniz.

	Bulgaristan	Sofya
	Yunanistan	Atina
	Suriye	Tiflis
	İran	Şam
	Gürcistan	Bakü
	Azerbaycan	Tahran
	Irak	Bağdat

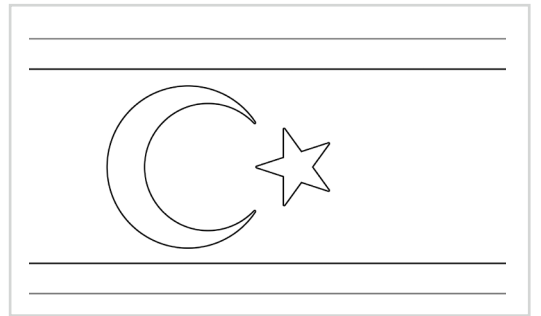

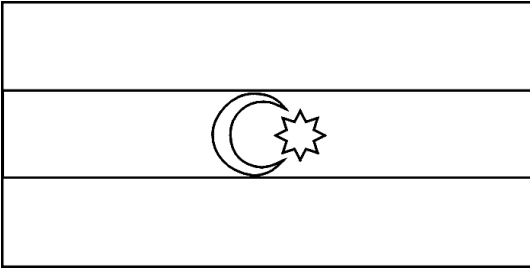
83. Olimpiyat bayrağı, beyaz zemin üzerine iç içe geçmiş farklı renklerdeki beş halkadan meydana gelir.



Olimpiyat halkalarının karşısındaki kutucuğa temsil ettikleri kıta isimlerini yazınız.



84. Aşağıda verilen Türk Cumhuriyetlerine ait bayrakların altına ait olduğu ülkenin adını yazınız. Ülkelerin bayraklarını doğru renklerde boyayınız.




85. Kelime veya kelime gruplarının; harf, sayı ve resimlerle temsil edilmesiyle oluşturulan oyunlara resfebe denir. Aşağıda verilen resfebeler, komşularımızla olan sınır kapılarımızı ifade etmektedir.

Buna göre sınır kapısının adını ve hangi komşumuzla aramızdaki sınır kapısı olduğunu örnekteki gibi yazınız.



a. Kapıköy-İran



b.



c.



ç.




d.




e.



f.



g.



ğ.



h.

86. İki arkadaş Sosyal Bilgiler dersinde “Uzaktaki Arkadaşlarım” ünitesi için “Nesi Var?” oyunu hazırlar. Bir kişi soru sorar, diğer kişi “Nesi Var?” sorusuyla ipucu olabilecek bilgiler edinmeye çalışır.

Bu iki arkadaşın oynadığı oyunun ipuçları aşağıda verilmiştir.

Buna göre ipuçları verilen ülkeleri bularak altlarına yazınız.

a. Nesi Var?

- 180 bin gölü
- Geniş ormanları
- Gece güneşi

Cevap:

b. Nesi Var?

- Festivalleri
- Perta Antik Kenti
- Lut Gölü

Cevap:

c. Nesi Var?

- Ugroiskola çocuk oyunu
- Gulaş yemeği
- Porselen hediyelik eşyaları

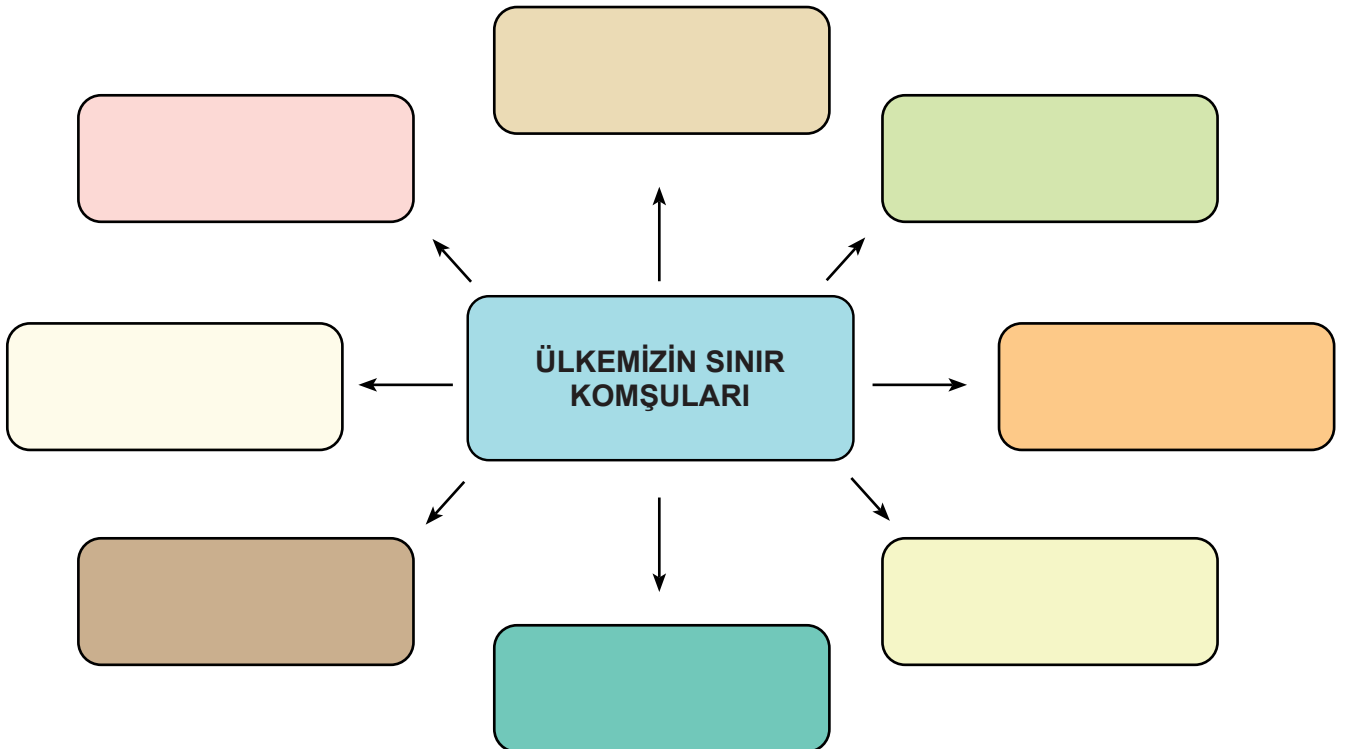
Cevap:

ç. Nesi Var?

- Kimono adı verilen kıyafetleri
- Origami sanatı
- Sakura festivali

Cevap:

87. Ülkemizin kara sınırı ile komşu olduğu ülkelerin isimlerini aşağıdaki kutucuklara yazınız.



CEVAP ANAHTARI

- | | | | |
|-------|-------|-------|-------|
| 1. D | 17. A | 33. A | 49. D |
| 2. D | 18. C | 34. B | 50. A |
| 3. C | 19. B | 35. D | 51. D |
| 4. A | 20. C | 36. B | 52. C |
| 5. B | 21. C | 37. C | 53. A |
| 6. C | 22. A | 38. B | 54. C |
| 7. B | 23. B | 39. B | 55. B |
| 8. A | 24. C | 40. D | 56. C |
| 9. C | 25. A | 41. B | 57. D |
| 10. B | 26. B | 42. C | 58. D |
| 11. D | 27. D | 43. C | 59. D |
| 12. B | 28. C | 44. C | 60. B |
| 13. B | 29. C | 45. B | 61. D |
| 14. A | 30. D | 46. A | 62. B |
| 15. B | 31. B | 47. D | |
| 16. D | 32. A | 48. D | |

63. a. Hazar b. Origami c. kilt ç. Lefkoşa d. TİKA
e. Suriye f. Ahıska g. olimpiyatlar ğ. Ölü Deniz h. gulaş

64. Suriye : Ceylanpınar Sınır Kapısı, Akçakale Sınır Kapısı
İran : Esendere Sınır Kapısı, Gürbulak Sınır Kapısı
Yunanistan : İpsala Sınır Kapısı, Pazarkule Sınır Kapısı
Irak : Habur Sınır Kapısı, Derecik Sınır Kapısı

65. 1. Ermenistan 2. Gürcistan 3. Nahcivan 4. Suriye 5. İran 6. Bulgaristan 7. Irak 8. Yunanistan

66. a. Bakü b. Türkmenistan c. Kazakistan ç. Kuzey Kıbrıs Türk Cumhuriyeti
d. Bişkek e. Özbekistan

67. a. Lefkoşa b. Bişkek c. Taşkent ç. Bakü
d. Aşkabat e. Astana

68. a. İpsala Sınır Kapısı b. Gülyüzü Sınır Kapısı c. Kapıkule Sınır Kapısı ç. Sarp Sınır Kapısı
d. Dilucu Sınır Kapısı e. Yayladağı Sınır Kapısı f. Gürbulak Sınır Kapısı g. Akyaka Sınır Kapısı

69. a. Türkmenistan b. Azerbaycan c. Kazakistan ç. Özbekistan
d. Kuzey Kıbrıs Türk Cumhuriyeti e. Kırgızistan

70. a. Tiflis b. Sofya c. Atina ç. Erivan
d. Tahran e. Bağdat f. Şam

71. TÜRKİYEANKARA

72. a. D b. Y c. D ç. D d. Y e. Y f. D g. D

73. 1. Nahcivan 2. Suriye 3. Bağdat 4. Yunanistan 5. İran 6. Gürcistan 7. Ermenistan

74. **KOMŞUMUZ OLAN ÜLKELER** : Yunanistan, Bulgaristan, Gürcistan, Ermenistan,
İran, Irak, Suriye

TÜRK CUMHURİYETLERİ : KKTC, Kazakistan, Türkmenistan, Özbekistan,
Azerbaycan, Kırgızistan

75. a. D b. Y c. D ç. D d. D e. D f. Y g. D ğ. D h. D

76. 1-c-IV, 2-d-I, 3-ç-VI, 4-b-V, 5-e-II, 6-a-III

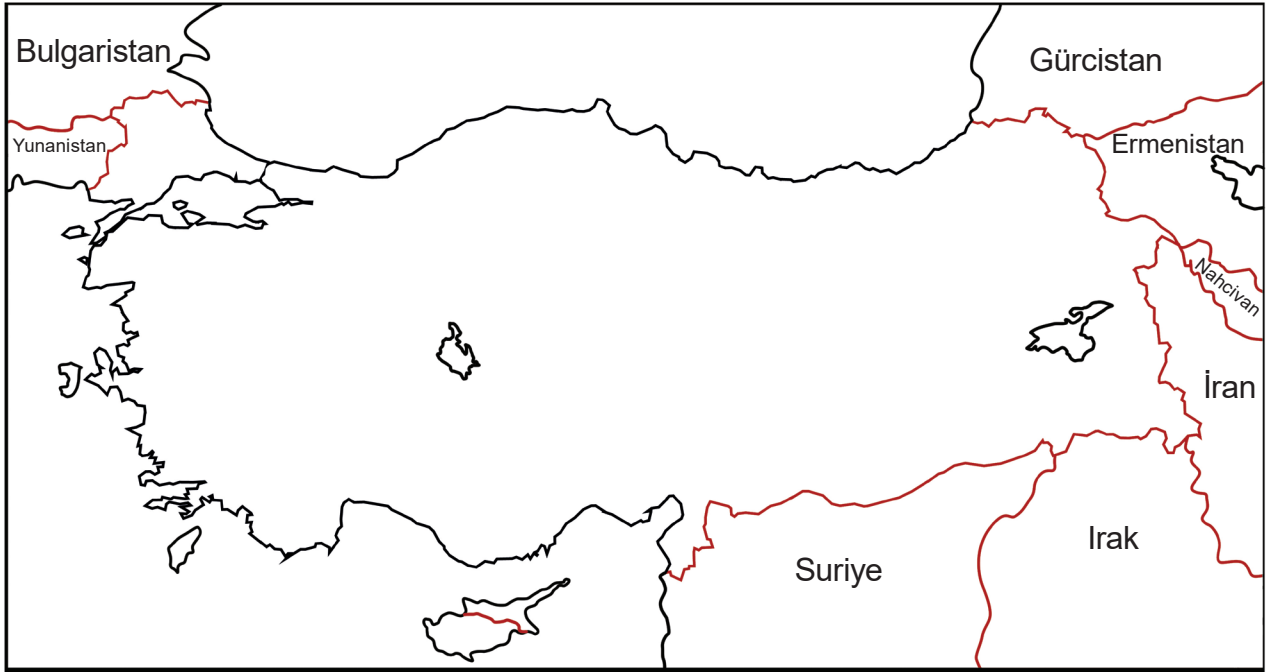
77. a. Ankara b. Atina c. Tokyo ç. Taşkent d. Bişkek
e. Japonya f. Suşi g. Kapıkule ğ. Kazakistan h. Sumo

78. a. D b. D c. D ç. Y d. Y e. Y f. D g. D ğ. D h. D

79. a. Y b. D c. Y ç. D d. D e. D f. Y g. Y ğ. D

80. 1. gece güneşi 2. Ruska 3. Petra Antik Kenti 4. Sultan Çelebi Mehmet 5. Gürcistan
6. Ahıska Türkleri 7. Habur Sınır Kapısı 8. Türkmenistan 9. Kırgızistan
10. gulaş 11. ojigi 12. kimono

81.



82. Bulgaristan – Sofya
Suriye – Şam
Yunanistan – Atina
İran – Tahran
Gürcistan – Tiflis
Irak – Bağdat
Azerbaycan – Bakü

83. Avrupa
 Asya
 Afrika
 Avustralya
 Amerika

84. a. Azerbaycan

b. Özbekistan

c. Kırgızistan

ç. KKTC

85. a. Kapıköy Sınır Kapısı (İran) b. Esendere Sınır Kapısı (İran) c. Üzümlü Sınır Kapısı (Irak)
- ç. Derecik Sınır Kapısı (Irak) d. Dilucu Sınır Kapısı (Nahcivan) e. Kapıkule Sınır Kapısı (Bulgaristan)
- f. İpsala Sınır Kapısı (Yunanistan) g. Pazarkule Sınır Kapısı (Yunanistan) ğ. Yayladağı Sınır Kapısı (Suriye)
- h. Çobanbey Sınır Kapısı (Suriye)

86. a. Finlandiya b. Ürdün c. Macaristan ç. Japonya

87. Bulgaristan, Yunanistan, Nahcivan (Azerbaycan), Gürcistan, Ermenistan, İran, Irak, Suriye