
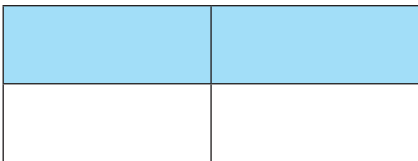




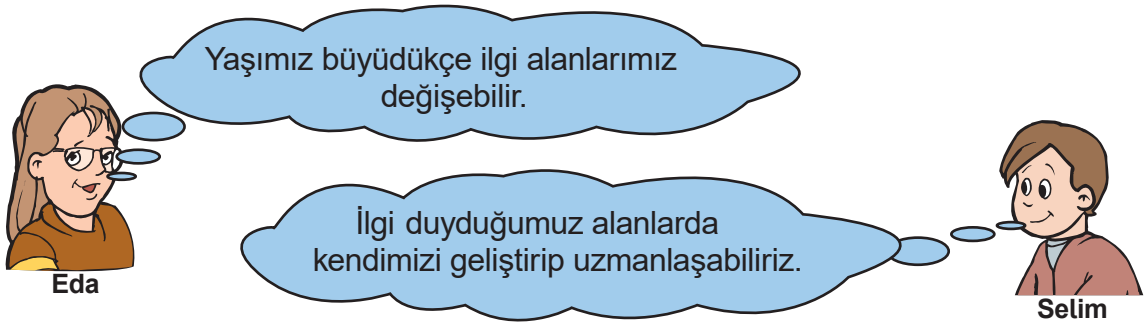
1. Ela, aşağıdaki tabloda hoşgörülü bir insan ile ilgili doğru bilgilerin bulunduğu kutuları mavi renge boyamıştır.

Farklı düşüncelere karşı saygılı olur.	Farklılıkları engellemeye çalışır.
Bireysel farklılığı olan kişileri dışlar.	Farklılıkların doğal olduğunu kabul eder.

Buna göre Ela aşağıdaki şekillerin hangisini elde eder?

- A) 
- B) 
- C) 
- D) 

2.



Eda ve Selim'in düşünceleriyle ilgili aşağıdakilerden hangisi doğrudur?

- A) İkisinin düşüncesi de yanlıştır.
- B) İkisinin düşüncesi de doğrudur.
- C) Selim'in düşüncesi yanlıştırken Eda'nın düşüncesi doğrudur.
- D) Eda'nın düşüncesi yanlıştırken Selim'in düşüncesi doğrudur.

3. Aşağıdaki kartlarda her öğrenci kendisi ile ilgili bilgiler vermiştir.




Uras

Doğayı çok seviyorum.
Yemyeşil çimlere uzanıp
müzik dinlemek çok keyifli.



Nisa

Beden eğitimi dersinde
koşturduğum için çok susadım
ve teneffüste su aldım.



Fatih

Göbeklitepe Örenyeri'ni
ziyaret ettikten sonra eve
gelip gördüklerimin resmini
çizdim. Bu resim ile katıldığım
yarışmada başarı elde ettim.

Buna göre öğrencilerin kendileriyle ilgili belirttiği ifadelerin “ilgi”, “ihtiyaç” ve “yetenek” yönünden doğru eşleştirmesi aşağıdakilerin hangisidir?

A)

Uras	İlgi
Nisa	Yetenek
Fatih	İhtiyaç

B)

Uras	İlgi
Nisa	İhtiyaç
Fatih	Yetenek

C)

Uras	Yetenek
Nisa	İhtiyaç
Fatih	İlgi

D)

Uras	İhtiyaç
Nisa	İlgi
Fatih	Yetenek

4. I. Okuma yazmayı öğrendim.
II. Yürümeye başladım.
III. Ana sınıfına gittim.
IV. Üniversite sınavını kazandım.

Yukarıdaki numaralandırılmış ifadelerin kronolojik sıralaması hangi seçenekte doğru olarak verilmiştir?

- A) II - III - I - IV
B) I - IV - II - III
C) III - II - I - IV
D) IV - I - II - III

5.



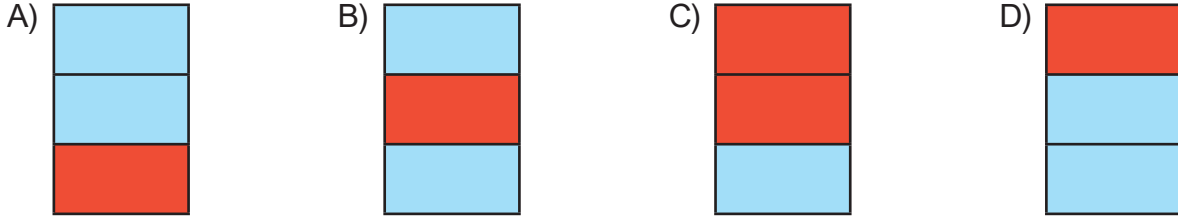
Yeteneklerimiz tablosunda boş bırakılan yere aşağıdakilerden hangisi getirilebilir?

- A) Kitap okumak
B) Müzeleri gezmek
C) Alışveriş yapmak
D) Tiyatroda rol almak

6.

	İnsan Hakları Evrensel Beyannamesi'nin 15. maddesinde herkesin vatandaşlık hakkına sahip olduğu belirtilmiştir.
	Yeni uygulamaya göre ülkemizde erkeklere mavi, kadınlara pembe renkli kimlik kartları verilmektedir.
	İnsanların farklılıkları doğal karşılanmalı ve bir zenginlik olarak görülmelidir.

Yukarıdaki cümlelerden doğru olanların başındaki kutuyu maviye, yanlış olanların başındaki kutuyu kırmızıya boyadığımızda hangi şekil ortaya çıkar?



7. Kimlik belgemizde bulunan hangi bilgi diğer insanların kimlik belgesinde bulunan bilgiyle aynı olamaz?

- A) Adı ve soyadı
- B) T.C. kimlik numarası
- C) Doğum tarihi
- D) Geçerlilik tarihi

8. Banu, 24 Temmuz 2020 tarihinde doğan ikiz kardeşlerinin aynı anda alınan kimlik belgelerini incelediğinde aşağıdakilerden hangisinin farklı olduğunu görür?

- A) Doğum yerlerinin
- B) Kimlik belgesi renklerinin
- C) Kimlik belgesi seri numaralarının
- D) Son geçerlilik tarihlerinin

9. Yeni kimlik kartlarındaki elektronik çip içinde aşağıdaki bilgilerden hangisi bulunmaz?
- A) Parmak izi
 - B) Fotoğraf bilgisi
 - C) Nüfus kayıt bilgileri
 - D) Kimlik belgesi sıra numarası
10. I. Pasaport başvurusunda
II. Oyun parkına girişte
III. Sağlık hizmeti alımında
IV. Alışveriş merkezine girişte
V. Okul kaydında
- Yukarıda verilenlerden hangilerini yaparken resmî kimlik belgesini kullanmak gereklidir?**
- A) I - II - III
 - B) I - III - V
 - C) II - III - V
 - D) III - IV - V
11. Osmanlı Devleti zamanında halk arasında kimlik belgesine birçok isim verildi.
- Buna göre aşağıdakilerden hangisi bu kimlik belgesine verilen isimlerden biri değildir?**
- A) Kafa kâğıdı
 - B) Nüfus kâğıdı
 - C) Kafa koçanı
 - D) Nüfus kimliği

12.

Bir insanın, kendisini karşısındaki insanın yerine koyarak onun duygularını ve düşüncelerini doğru olarak anlamaya çalışmasına “**empati**” denir.

Yukarıdaki tanıma uygun ifade hangi seçenekte kullanılmıştır?

- A) Arkadaşlarıyla parkta çok eğlendi.
- B) Geç kalma dediğim halde geç kaldı.
- C) Ertesi günün sabahında yolculuğa çıkacaktı.
- D) Yüzümdeki neşenin sebebini anlayabiliyordu.

13. **Aşağıdaki atasözlerinden hangisi, bireylerin birbirinden farklı olduğunu hiç kimsenin bir diğeri ile aynı olmadığını anlatır?**

- A) Bir elin nesi var, iki elin sesi var.
- B) Ayağını yorganına göre uzat.
- C) Beş parmağın beşi bir olmaz.
- D) Sakla samanı, gelir zamanı.

14.

Reyyan küçüklüğünden beri oyun hamurları ile uğraşmayı, onlara çeşitli şekiller verip sergilemeyi çok seven bir öğrencidir. Sergilediği nesnelere arkadaşları tarafından çok beğenilmektedir.

Reyyan'ın yeteneğine göre hangi sanat dalında eğitim alması uygun olur?

- A) Resim
- B) Müzik
- C) Seramik
- D) Dans

15.



Bu gazete haberini okuyan ve bu habere etkilenen bir öğrencinin, okulundaki hangi kulüp çalışmasına karşı ilgisi artar?

- A) İzcilik
- B) Bilinçli Tüketici
- C) Bilim, Fen ve Teknoloji
- D) Sosyal Yardımlaşma ve Dayanışma

16. Aşağıda verilen cümlelerden hangisi kişinin ilgi alanını anlatmaktadır?

- A) Öğretmenimin verdiği ödevleri zamanında yaparım.
- B) Hafta sonları hava güneşli olduğunda sevinirim.
- C) Evimizin bahçesinde çiçek yetiştirmekten hoşlanırım.
- D) Karşıdan karşıya geçerken yaya geçidini kullanırım.

17. Yeni doğan bir bebeğin kimlik belgesinin düzenlenmesi için aşağıdaki kurumlardan hangisine başvurulur?

- A) İl Emniyet Müdürlüğü
- B) Mahalle Muhtarlığı
- C) İlçe Belediye Başkanlığı
- D) Nüfus ve Vatandaşlık İşleri Müdürlüğü

18.



Gürkan kimlik belgesini fotoğrfsız olarak en fazla kaç yaşına kadar kullanabilir?

- A) 7
- B) 10
- C) 12
- D) 15

19. Başkalarının farklılıklarına, duygu ve düşüncelerine saygı göstermeliyiz.

Buna göre aşağıdaki davranışlardan hangisi doğrudur?

- A) Sınıf başkanlığı seçiminde kendisine oy vermeyen arkadaşlarıyla konuşmamak
- B) Kendisi ile aynı takımı tutmayan arkadaşlarına saygı göstermemek
- C) Farklı bir fikri olan arkadaşının sözü bitmeden, öğretmenden söz hakkı istememek
- D) Doğum gününe katılmayan sınıf arkadaşının açıklamasını dinlememek





20. Bir kimsenin bir şeyi anlama ya da yapabilme kabiliyeti, yetenek olarak tanımlanabilir.

Aşağıdaki durumlardan hangisi yetenek ile ilgilidir?

- A) Arkadaşlarımla vakit geçirmekten hoşlanırım.
- B) Zor durumda olanlara yardım ederim.
- C) İlk defa duyduğum bir besteyi çalarım.
- D) Sokak hayvanlarına teyzemle beraber su ve yemek veririm.

21. Bu fiziksel özelliğimiz tek yumurta ikizi olan kardeşlerde bile aynı değildir. Doğduğumuz andan hayatımızın sonuna kadar bu özelliğimiz değişiklik göstermez.

Metinde bahsedilen fiziksel özelliğimiz aşağıdakilerden hangisidir?


- A)  Göz rengi
- B)  Parmak izi
- C)  Kilo
- D)  Saç rengi

22. Nasrettin Hoca evinin damında çalışırken dengesini kaybederek damdan düşmüştü. Komşuları koşarak gelmişler. Biri doktor çağırılma derken diğeri başka bir şey söylemiş. Konuşmalar sürerken Nasrettin Hoca, acıyan belini tutarak “Bırakın tartışmayı. Bana daha önce damdan düşmüş birini bulun.” demiş.

Yukarıdaki metinde Nasrettin Hoca'nın dile getirmeye çalıştığı kavram aşağıdakilerden hangisidir?

- A) Sevgi
B) Saygı
C) Empati
D) Hoşgörü

23.



Buse ile Ezgi ikiz kardeşlerdir. Resmî kimlik belgelerini inceleyen kardeşler belgelerindeki bir bilginin birbirinden farklılık gösterdiğini anlarlar.

Buna göre aşağıdakilerden hangisi Buse ve Ezgi'nin kimlik belgelerinde farklılık gösteren bir bilgidir?

- A) Uyuğu
- B) Veren Makam
- C) Doğum Tarihi
- D) T.C. Kimlik Numarası

24.



Benim adım Mert. Neşeli ve arkadaşlarımla beraber oyun oynamayı çok seven biriyim. En yakın sınıf arkadaşım Mehmet ise sessiz ve çekingen biri. Mehmet herkesin çok beğendiği resimler yapabiliyor. Ben ise yan flüt çalmayı çok seviyorum. En büyük hayalimiz Mehmet'in resim sergisi açılışını yaparken benim de yan flüt konseri ile eşlik etmem.

Buna göre Mert ve Mehmet hakkında aşağıdakilerden hangisi söylenebilir?

- A) Farklı okullara gitmektedirler.
- B) İlgi ve yetenekleri birbirine benzerdir.
- C) Kişisel özellikleri birbirine benzerdir.
- D) Farklılıklarına rağmen çok iyi arkadaşlardır.

25.



5 Şubat 2003 tarihinde kolları olmadan dünyaya gelen millî yüzücü Sümeyye Boyacı, kendi ifadesine göre gittiği bir akvaryumda balıkların kolları olmamasına rağmen çok iyi yüzebilmelerinden ilham alarak 2008 yılında yüzmeye başladı. Ailesinin ve arkadaşlarının desteğini her zaman yanında hisseden Boyacı birçok turnuvada dereceler aldı. En son 2018 Ağustos'unda gerçekleşen şampiyonada, 50 metre sırtüstü kategorisinde altın madalya kazandı.

Bu metinden yola çıkarak;

- I. İstenildikten sonra tüm engeller aşılabılır.
- II. Bireylerin yetenekleri doğrultusunda yakın çevreleri tarafından desteklenmeleri önemlidir.
- III. Bedensel engel gibi farklılıklar başarı önünde engel değildir.

ifadelerinden hangilerine ulaşılabilir?

- A) Yalnız II
- B) I ve II
- C) II ve III
- D) I, II ve III

26. “2017 yılında ülkemizde yapılan Avrupa Ampute Futbol Şampiyonası'nda Milli takımımız final maçında İngiltere'yi 2-1 yenerek Avrupa şampiyonu oldu.”

Buna göre Ampute Milli takımımızın Avrupa Şampiyonu olması aşağıdakilerden hangisini göstermez?

- A) Bedensel engellilerin başarılarına imza atabileceğini
- B) İnançla ve azimle çalışıldığında başarıya ulaşabileceğini
- C) Bedensel engellilerin en büyük sosyalleşme alanının futbol olduğunu
- D) Bedensel engelin bir eksiklik olmadığını

27.

KATILIM BELGESİ

T.C. Kimlik Numarası :	Etkinlik Adı :
Adı Soyadı :	
Doğum Tarihi :	Belge No :
Okul Adı :	Belge Tarihi :

Yukarıda bilgileri bulunan katılımcımız isimli
etkinliğe katılarak bu belgeyi almaya hak kazanmıştır.

İmza
..... Müdürü

Yukarıda bir etkinliğe katılan öğrenciye verilen Katılım Belgesinin görseli yer almaktadır.

Belgede istenilen bilgilerden hangisi kişinin kimlik kartından yararlanılarak yazılamaz?

- A) Okul Adı
- B) Doğum Tarihi
- C) Adı Soyadı
- D) T.C. Kimlik Numarası

28. Emir'in hayatındaki bazı olaylar karışık olarak verilmiştir.

- A Mayıs 2010'da yürümeye başladım.
- B Ağustos 2017'de yüzmeyi öğrendim.
- C Haziran 2010'da konuşmaya başladım.
- Ç 11 Haziran 2009'da ailemin ilk çocuğu olarak dünyaya geldim.
- D 28 Eylül 2015'te ilkokula başladım.
- E 6 Temmuz 2014'te kardeşim oldu.
- F Nisan 2015'te bisiklet sürmeyi öğrendim.

Siz de bu olayların başında bulunan harfleri kullanarak kronolojik sıralama yapınız.

29. Aşağıda bazı özelliklerimiz numaralandırılarak verilmiştir.

Bu özellikleri yan taraftaki durumlarla eşleştirip özelliğin numarasını uygun durumun altına yazınız.

	Benzersiz Özelliklerimiz	Ortak Olabilecek Özelliklerimiz
1 Parmak izi		
2 Saç rengi		
3 Yüz şekli		
4 İris tabakası	<input type="radio"/>	<input type="radio"/>
5 Kalp atışı	<input type="radio"/>	<input type="radio"/>
6 Boy	<input type="radio"/>	<input type="radio"/>
7 Ses	<input type="radio"/>	<input type="radio"/>
8 Yürüyüş şekli	<input type="radio"/>	<input type="radio"/>
9 Yaş	<input type="radio"/>	<input type="radio"/>
10 Göz rengi	<input type="radio"/>	<input type="radio"/>
11 Ten rengi	<input type="radio"/>	<input type="radio"/>
12 Kilo	<input type="radio"/>	<input type="radio"/>

30. Aşağıda fiziksel özelliklerimiz ve kişisel özelliklerimiz ile ilgili kavramlar verilmiştir.

Verilen kavramları uygun olan zarfların altına yazınız.

Kilo

Cömertlik

Dürüstlük

İyimserlik

Yüz şekli

Meraklılık

Kalp atışı


Saç rengi

Parmak izi

Alçak gönüllülük

Boy

Fiziksel Özellik



.....

.....


.....

.....

.....

.....

Kişisel Özellik



.....

.....

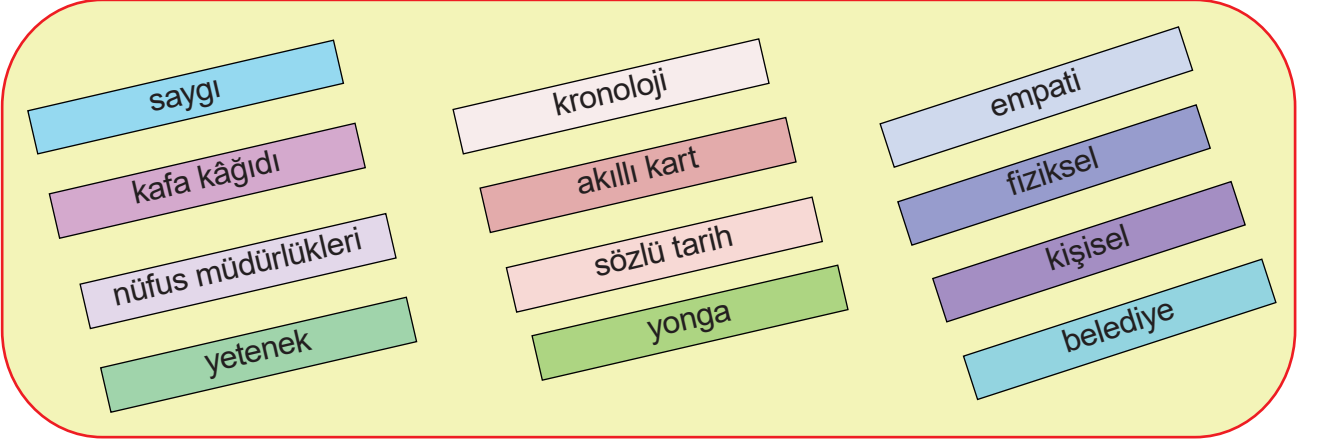
.....

.....

.....

.....

31.



Verilen boşluklara kutucuklarda yer alan kelimelerden uygun olanlarını yazarak cümleleri tamamlayınız.

1. Kendimizi karşımızdaki kişinin yerine koyarak onun duygu ve düşüncelerini anlamaya çalışmamıza denir.
2. İnsanları doğuştan gelen özellikleriyle kabul etmek onlara gösterdiğimiz ile anlaşılır.
3. Geçmişte halk arasında kimlik belgelerine, , kafa koçanı, nüfus kâğıdı gibi adlar da verilmiştir.
4. Olayların oluş tarihlerine göre sıraya konulmasına denir.
5. Elif Nur'un saçlarının sarı, gözlerinin kahverengi olması onun özellikleri arasındadır.
6. Yeni kimliklerimizde bulunan çipler sayesinde kimliklerimiz özelliği kazanmıştır.
7. Türkiye Cumhuriyeti kimlik kartındaki elektronik çip olarak da adlandırılır.
8. Türkiye Cumhuriyeti kimlik kartları tarafından verilir.

32. Aşağıda verilen cümleler doğru ise karşısında bulunan dairenin içine “D” yanlış ise “Y” yazınız.

HERKESİN BİR KİMLİĞİ VAR

1- On beş yaşını tamamlamış çocukların kimliklerinde fotoğraflarının yer alması zorunlu değildir.



2- Ailedeki tüm bireylerin kimlik numaraları aynıdır.



3- Her insana, doğduğu andan itibaren geçerli olmak üzere vatandaşı olduğu devlet tarafından resmî bir kimlik belgesi verilir.



4- Ülkemizde, resmî kimlik belgeleri cinsiyete uygun olarak pembe ve mavi renkte düzenlenir.



5- Eski nüfus cüzdanlarımızda yer alan ayrıntılı bilgiler yeni resmî kimlik belgelerinde elektronik çipin içinde yer alır.





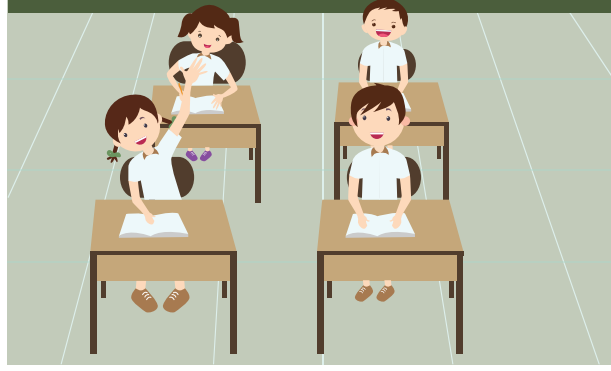
6- Kimlik belgemizi almak için nüfus ve vatandaşlık işleri müdürlüğüne başvurmamız gerekir.



7- Kimlik belgelerimizin geçerlilik süresi 5 yıldır.



33. Aşağıdaki görselleri kronolojik olarak sıralayarak, görsellerin altındaki kutucuğa doğru sıra numarasını yazınız.



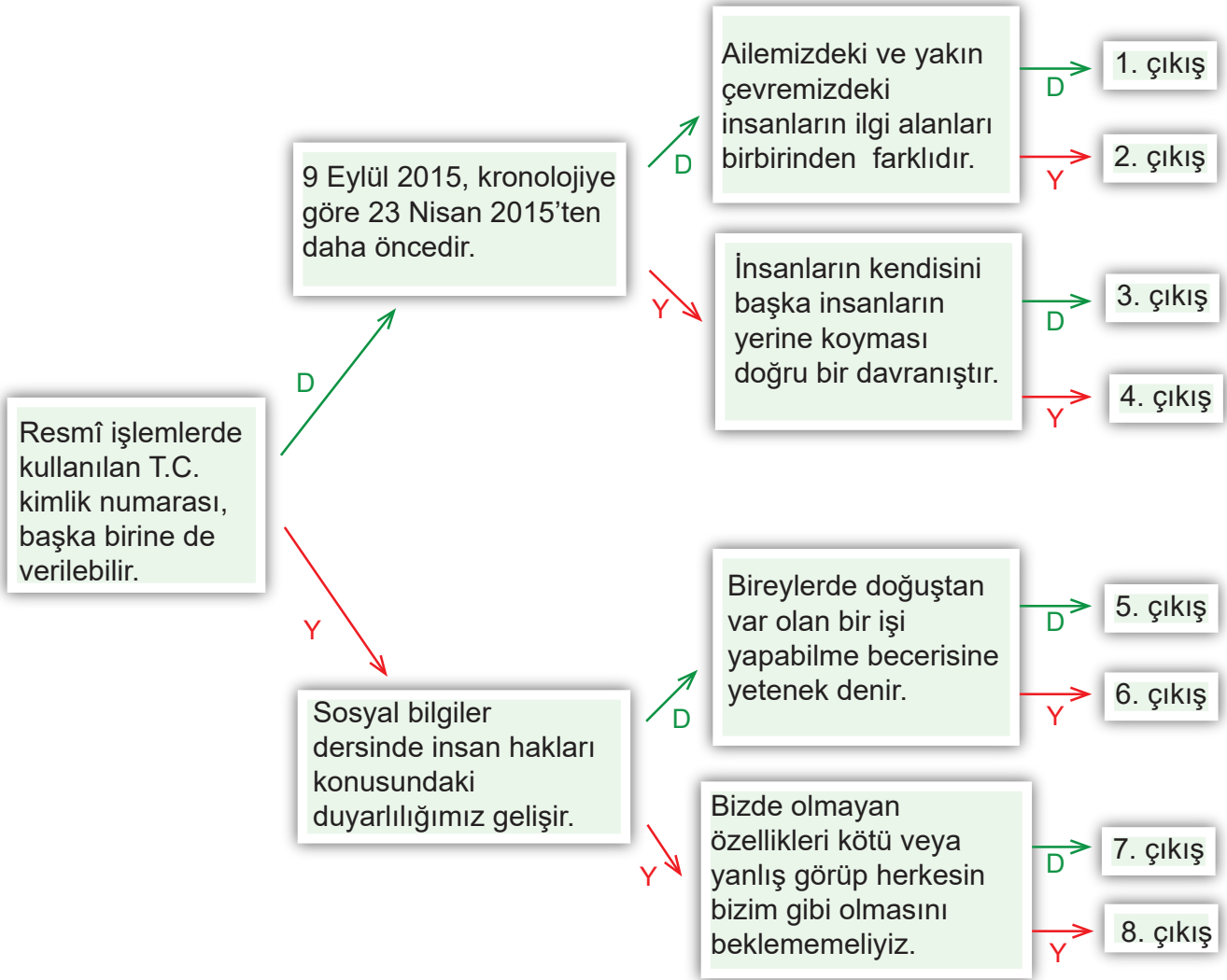
34. Aşağıdaki cümlelerin verilen kavramlardan hangisiyle ilgili olduğunu belirleyiniz ve belirlediğiniz kutucuğu işaretleyiniz.

CÜMLELER	İLGİ	YETENEK
• Kerem sesi güzel olduğu için koroda şarkı söylüyor.		
• Sude, internette uzay ile ilgili araştırmalar yapmayı çok seviyor.		
• Nihal, genelde belgesel programlarını izliyor.		
• Serkan yaptığı ilkbahar resmi ile ödül kazandı.		
• Kübra, kitap fuarından beş tane hikâye kitabı aldı.		
• Oğuz yüzme kursuna, kardeşi ise fotoğrafçılık kursuna katıldı.		
• Duygu, hafta sonu bize kendi bestesini piyanoda çalacak.		

35. Aşağıda verilen cümleler doğru ise başında bulunan yay ayaç içine “D” yanlış ise “Y” yazınız.

- (...) Her insanın keşfedilmemiş yetenekleri olabilir.
- (...) İlgilerimiz zaman içinde değişime uğramaz.
- (...) Her insan aynı olay karşısında aynı tepkiyi verir.
- (...) Yeni kimlik belgeleri, akıllı kart özelliğine sahiptir.
- (...) İlgî ve yeteneklerimiz doğrultusunda kendimizi geliştirmeliyiz.
- (...) Yeni kimlik belgesinin ön yüzünde elektronik çip vardır.
- (...) Yeni kimlik belgesi sadece yetişkin vatandaşlara verilir.
- (...) Her bireyin T.C. kimlik numarası farklıdır.
- (...) Beste yapmak yetenek gerektiren bir davranıştır.
- (...) Fiziksel özelliklerimiz, ilgi alanlarımız, yeteneklerimiz ve duygusal özelliklerimiz bizi diğer bireylerden ayıran bireysel farklılıklarımızdır.

36. Aşağıda verilen ifadelerin her birinin cevabını doğru (D) ya da yanlış (Y) olarak seçip uygun çıkışa gidiniz. Ulaşmış olduğunuz çıkışı verilen boşluğa yazınız.



.....

37. Aşağıdaki cümleler hangi kavramla ilgili ise altındaki kutucuğu işaretleyiniz.

1. Arkadaşın mahalleden taşındığında senin neler hissettiğini anlayabiliyorum.

Empati

Hoşgörü

2. Farklı inançları benimseyen insanlara saygı duyuyorum.

Empati

Hoşgörü

3. Benim gibi düşünmeyen arkadaşşıma karşı anlayışlı davranıyorum.

Empati

Hoşgörü

4. Kuzeninden aldığıın mektubun seni nasıl sevindirdiğini hissedebiliyorum.

Empati

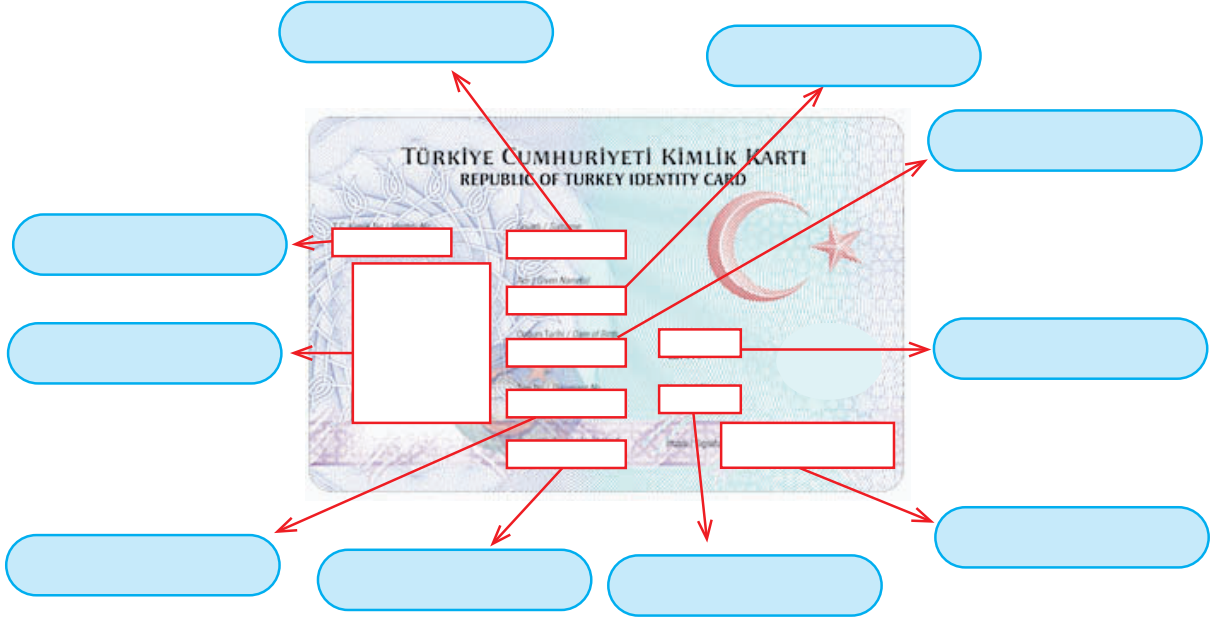
Hoşgörü

38. Aşağıda verilen cümleler doğru ise başında bulunan yay ayaç içine “D” yanlış ise “Y” yazınız.

1. (...) Çocukken diğer tüm arkadaşlarımızla ilgi alanlarımız aynıdır.
2. (...) Yaşımız ilerledikçe ilgi alanlarımız değişebilir.
3. (...) İlgi alanlarımıza giren faaliyetlerde bulunmak bizi mutlu eder.
4. (...) Resim yapmak, müzik dinlemek ve bisiklete binmek temel ihtiyaçlarımızdır.
5. (...) Okullarda yapılan bazı kulüp çalışmaları yeteneklerimizin gelişmesine katkı sağlar.

40. Aşağıda Türkiye Cumhuriyeti Kimlik Kartının ön yüzündeki bilgiler kırmızı kutucuklar ile işaretlenmiştir.

Bu kutucuklara ait olan bilgileri oklarla gösterilen alanlara yazınız.



41. Aşağıda verilen cümleler doğru ise başında bulunan yay ayaç içine “D” yanlış ise “Y” yazınız.

1. (...) T.C. kimlik kartları uluslararası standartlara uygun şekilde düzenlenmiştir.
2. (...) Eski nüfus cüzdanlarımızda da akıllı kart özelliği vardı.
3. (...) Parmak izimiz başka kişilerin parmak izi ile aynı olabilir.
4. (...) Tarihimizde ilk resmî kimlik belgesi Osmanlı Devleti Dönemi’nde düzenlenmiştir.
5. (...) İnsanlar mutlu bir şekilde yaşamak için birbirlerine saygı göstermelidir ve empati kurmalıdır.
6. (...) Bireyler arasındaki farklılıklar, zenginlik olarak görülmelidir.
7. (...) Herkesin vatandaşlık hakkına sahip olduğu İnsan Hakları Evrensel Beyannamesi’nde belirtilmiştir.
8. (...) Gözümüzdeki iris tabakası parmak izlerimiz gibi benzersizdir.
9. (...) Yeni kimlik kartlarının 15 yılda bir değiştirilmesi zorunludur.

42. Aşağıda Efe'nin ziyaret ettiği yerlerin fotoğrafları ve bu yerleri ziyaret ettiği tarihler verilmiştir.

Efe'nin gitmiş olduğu yerleri kronolojik sıraya koyarak verilen boşluğa yazınız.

Anıtkabir
Ankara



10 Kasım 2019

Mevlana Müzesi
Konya



20 Haziran 2016

Efes Antik Kenti
İzmir



9 Ağustos 2020

Ortaköy Camii
İstanbul



20 Ağustos 2012

Kapadokya
Nevşehir



30 Temmuz 2018

Pamukkale Travertenleri
Denizli



5 Haziran 2019

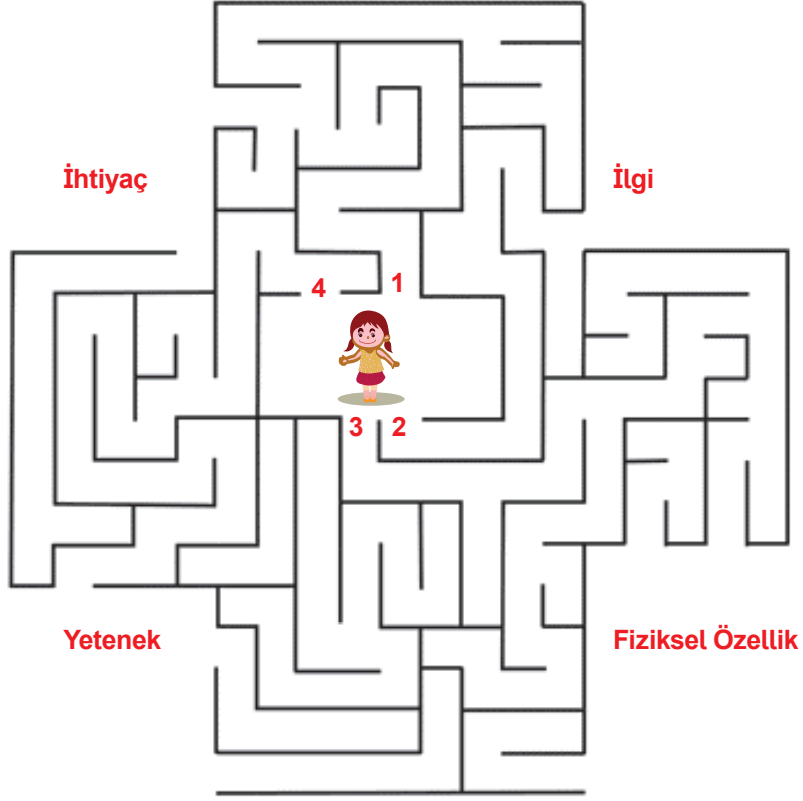
Truva Antik Kenti
Çanakkale



10 Temmuz 2012

43. Aşağıda verilen bulmacada rakamlar bir kavrama ulaşarak çıkış yolunu bulmaktadır.

Bu rakamların ulaştığı kavramları alt tarafta verilen tanımlarla eşleştirip doğru rakamları yerlerine yazınız.



- İnsanların dış görünüşleriyle ilgili olan boy, kilo, saç ve göz rengi gibi özelliklere verilen isim
- Bir kimsenin bir şeyi anlama ve yapabilme niteliği
- Belirli bir olay veya etkinliğe yakınlık duyma
- İnsanın bir şeye güçlü bir şekilde duyduğu gereksinim

44.



Neşeli, utangaç veya cömert olmak bizim fiziksel özelliklerimizdendir.



Kronoloji sayesinde yaşanan olaylar, oluş sırasına göre incelenir.




Yeni kimlik belgelerinde cinsiyete göre renk ayrımı yoktur.



Doğa gezisine çıkmak insanın yeteneğine örnektir.

Ahmet yukarıda verilen, renkli basketbol topları ile bir oyun oynamaktadır. Bu oyunda basketbol toplarının yanlarında yazan ifadeler doğru ise o basketbol topu sayı olmaktadır.

Buna göre sayı olan topların rengini aşağıda verilen görselde boyayınız.



CEVAP ANAHTARI

- | | | |
|------|-------|-------|
| 1. C | 10. B | 19. C |
| 2. B | 11. D | 20. C |
| 3. B | 12. D | 21. B |
| 4. A | 13. C | 22. C |
| 5. D | 14. C | 23. D |
| 6. B | 15. D | 24. D |
| 7. B | 16. C | 25. D |
| 8. C | 17. D | 26. C |
| 9. D | 18. D | 27. A |

28. Ç - A - C - E - F - D - B

29.

Benzersiz Özelliklerimiz

Ortak Olabilecek Özelliklerimiz

1

2

3

6

4

9

5

10

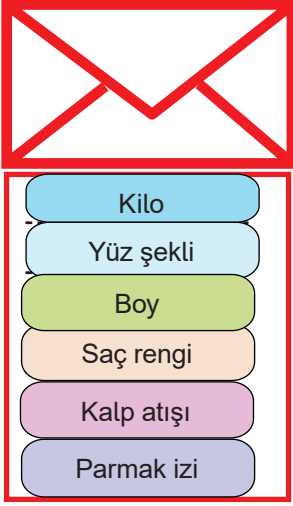
7

11

8

12

30. Fiziksel Özellik



Kişisel Özellik



31. 1. Empati, 2. Saygı, 3. Kafa kağıdı, 4. Kronoloji, 5. Fiziksel, 6. Akıllı kart, 7. Yonga, 8. Nüfus müdürlükleri.

32.

1- On beş yaşını tamamlamış çocukların kimliklerinde fotoğraflarının yer alması zorunlu değildir.

Y



2- Ailedeki tüm bireylerin kimlik numaraları aynıdır.

Y



3- Her insana, doğduğu andan itibaren geçerli olmak üzere vatandaşı olduğu devlet tarafından resmî bir kimlik belgesi verilir.

D



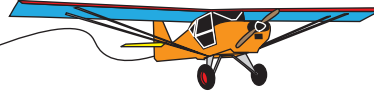
4- Ülkemizde, resmî kimlik belgeleri cinsiyete uygun olarak pembe ve mavi renkte düzenlenir.

Y



5- Eski nüfus cüzdanlarımızda yer alan ayrıntılı bilgiler yeni resmî kimlik belgelerinde elektronik çipin içinde yer alır.

D



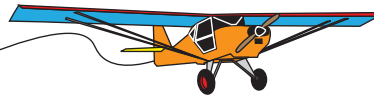
6- Kimlik belgemizi almak için nüfus ve vatandaşlık işleri müdürlüğüne başvurmamız gerekir.

D




7- Kimlik belgelerimizin geçerlilik süresi 5 yıldır.

Y



33.



34.

CÜMLELER	İLGİ	YETENEK
• Kerem sesi güzel olduğu için koroda şarkı söylüyor.		X
• Sude, internette uzay ile ilgili araştırmalar yapmayı çok seviyor.	X	
• Nihal, genelde belgesel programlarını izliyor.	X	
• Serkan'ın yaptığı ilkbahar resmini hepimiz beğendik.		X
• Kübra, kitap fuarından beş tane hikâye kitabı aldı.	X	
• Oğuz yüzme kursuna, kardeşi ise fotoğrafçılık kursuna katıldı.	X	
• Duygu, hafta sonu bize kendi bestesini piyanoda çalacak.		X

35. 1-Doğru, 2-Yanlış, 3-Yanlış, 4-Doğru, 5-Doğru, 6-Yanlış, 7-Yanlış, 8-Doğru, 9-Doğru 10-Doğru.

36. 5. çıkış.

37.

1. Arkadaşın mahalleden taşındığında senin neler hissettiğini anlayabiliyorum.

Empati

X

Hoşgörü

2. Farklı inançları benimseyen insanlara saygı duyuyorum.

Empati

Hoşgörü

X

3. Benim gibi düşünmeyen arkadaşıma karşı anlayışlı davranıyorum.

Empati

Hoşgörü

X

4. Kuzeninden aldığın mektubun seni nasıl sevindirdiğini hissedebiliyorum.

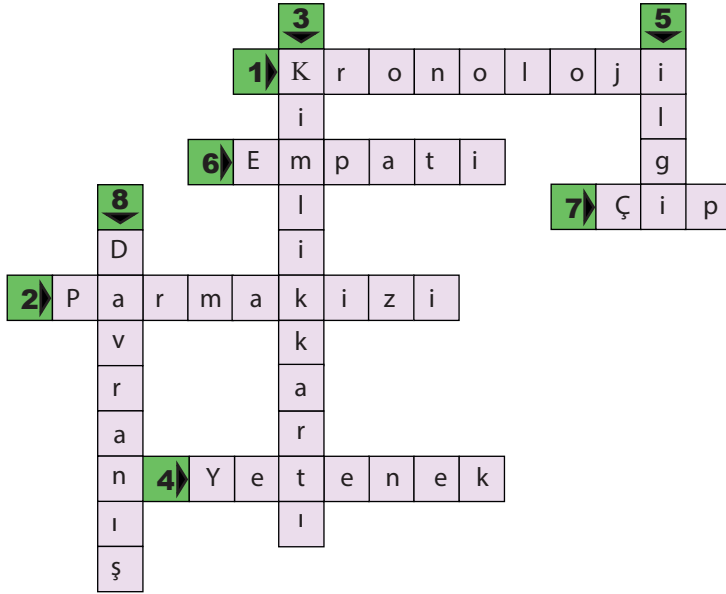
Empati

X

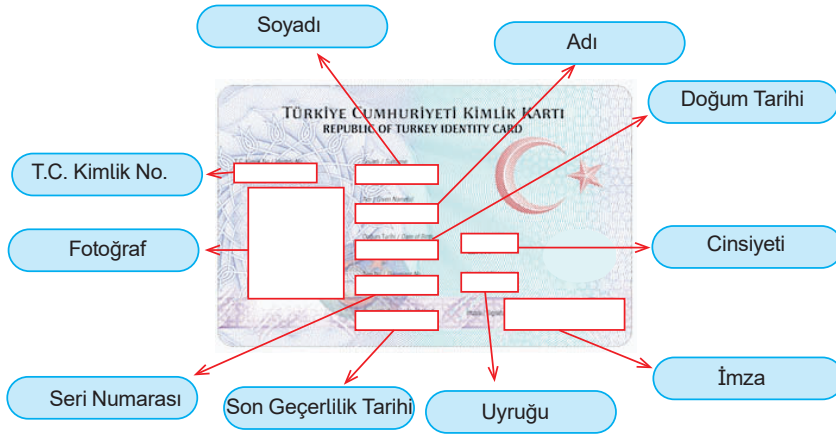
Hoşgörü

38. 1-Yanlış, 2-Doğru, 3-Doğru, 4-Yanlış, 5-Doğru,

39.

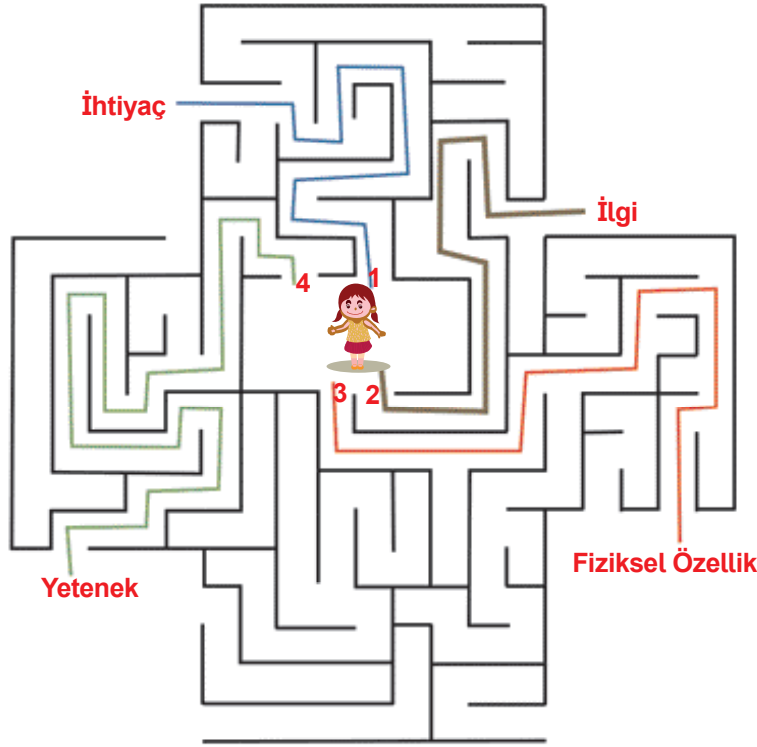


40.



41. 1-Doğru, 2-Yanlış, 3-Yanlış, 4-Doğru, 5-Doğru, 6-Doğru, 7-Doğru, 8-Doğru, 9-Yanlış.

43.



- 3 İnsanların dış görünüşleriyle ilgili olan boy, kilo, saç ve göz rengi gibi özelliklere verilen isim
- 4 Bir kimsenin bir şeyi anlama ve yapabilme niteliği
- 2 Belirli bir olay veya etkinliğe yakınlık duyma
- 1 İnsanın bir şeye güçlü bir şekilde duyduğu gereksinim

44.

