

1. Alışveriş yaparken aldığımız ürünlerde aramız gereken özellikleri belirten işaretler ve bu işaretlerin anlamları aşağıda verilmiştir. Ancak iki işaretin anlamı yanlış verilmiştir.



Bu işaret, alınan ürünün kalite standartlarına uygun olarak üretildiğini gösterir.



Bu işaret, ürünün amacına uygun kullanılması hâlinde canlılara ve çevreye zarar vermeyeceğini ifade eder. Başka bir ifadeyle ürünün güvenli olduğunu gösterir.











Ambalajın üzerindeki bu işarete bakarak ürünün geri dönüşüme uygun malzemelerden yapıp yapılmadığını kolayca anlayabiliriz.



Uluslararası Standart Organizasyonunun kısaltması olan bu işaret, ürünün veya hizmetin belirlenen ihtiyacı karşıladığı anlamını taşır.

Yukarıda verilen işaretin ve karşıladığı anlamın doğru olması için hangi iki işaretin yer değiştirmesi gerekir?

- A)  
- B)  
- C)  
- D)  

2. Bilinçli tüketicilerin ihtiyaçlarını karşılarlarken dikkat etmesi gerekenler aşağıda belirtilmiştir.



Yukarıdaki görselde boş bırakılan bölüme aşağıdakilerden hangisi getirilemez?


- A) Reklam
- B) Geri Dönüşüm İşareti
- C) CE ve ISO Güvenlik İşaretleri
- D) Gıda, Tarım ve Hayvancılık Bakanlığının İzni

3.



Gazetede ki haberi okuyan Seda ve ailesi İzmirli depremzedelere ulaştırılmak üzere temel ihtiyaçlardan oluşan bir koli hazırladılar.

Buna göre Seda ve ailesinin hazırladığı bu kolide aşağıdakilerden hangisinin yer alması beklenmez?



4. Aşağıdaki ürünlerden hangisinin garanti belgesi olmaz?

- A) Ütü
- B) Telefon
- C) Meyve suyu
- D) Çamaşır makinesi

5. Ablası ile beraber markete alışverişe giden Yiğit,

- I. Aynı kalitedeki ürünlerden ucuz olanı almak.
- II. Sebze ve meyvelerin tazeliğine dikkat etmek.
- III. Ambalajlı gıdaların üretim ve son kullanma tarihlerine bakmak.

ifadelerinden hangilerine dikkat etmelidir?

- A) I ve II
- B) I ve III
- C) II ve III
- D) I, II ve III

6. Elektrikli süpürge almak için beyaz eşya mağazasına giden Elif, beğendiği elektrikli süpürge'nin kutusunun üzerinde şu işaretleri görür;



Elif, bu işaretlerden hangisini görünce elektrikli süpürge'nin Türkiye'de üretildiğini anlamış olabilir?



7. 1. Su, sağlığımız için en önemli besin maddelerinden biridir.
2. Arkadaşlarım ile birlikte ayda bir sinemaya gideriz.
3. Soğuk havalarda sağlığımızı korumak için kalın giysiler giyeriz.
4. Müzik dinlemek beni mutlu eder.
5. Gezmek ve görmek insanlara kültürel zenginlik katar.
6. Düzenli uyku insanı zinde tutar ve hafızayı güçlendirir.

Yukarıda verilen maddelerin **istem ve ihtiyaçlarımıza göre gruplara ayrılmış hâli, aşağıdakilerin hangisinde verilmiştir?**

<u>İhtiyaç</u>	<u>İstek</u>
A) 1 - 3 - 5	2 - 4 - 6
B) 2 - 4 - 6	1 - 3 - 5
C) 1 - 3 - 6	2 - 4 - 5
D) 1 - 4 - 6	2 - 3 - 5

- 8.
- Gaziantep ilimizde, çevre illerden gelen pamuklar işlenerek tekstil ürünleri haline getirilir. Bu ürünler hem yurt içine satılmakta hem de yurt dışına ihraç edilmektedir.
 - Şanlıurfa ilimizde son yıllarda yapılan sulama faaliyetleri ile pamuk bitkisi yetiştirilmektedir.
 - Adıyaman'da bulunan Nemrut Dağı, her yıl binlerce yerli ve yabancı turisti ağırlamaktadır.

Yukarıda, Güneydoğu Anadolu Bölgesinde yapılan ekonomik faaliyetlerin hangisinden bahsedilmemiştir?

- A) Turizm B) Tarım C) Sanayi D) Hayvancılık

9. İklimin ve yeryüzü şekillerinin farklı olması ekonomik faaliyetlerin bölgelerimize göre farklılık göstermesine sebep olmuştur.

- Marmara Bölgesi'nde ulaşım olanakları gelişmiştir.
- Akdeniz Bölgesi'nde kış mevsimleri ılık geçmektedir.
- Doğu Anadolu Bölgesi'nde mera ve otlaklar geniş yer kaplamaktadır.
- Karadeniz Bölgesi'nin deniz suyu tuzluluk oranı azdır.

Bu bölgelerde gelişen ekonomik faaliyetler aşağıdakilerin hangisinde doğru olarak verilmiştir?

Marmara Bölgesi	Akdeniz Bölgesi	Doğu Anadolu Bölgesi	Karadeniz Bölgesi
A) Büyükbaş Hayvancılık	Sanayi	Balıkçılık	Seracılık
B) Sanayi	Seracılık	Balıkçılık	Büyükbaş Hayvancılık
C) Seracılık	Balıkçılık	Büyükbaş Hayvancılık	Sanayi
D) Sanayi	Seracılık	Büyükbaş Hayvancılık	Balıkçılık

10. Ahmet, mağazadan aldığı ayakkabının iki gün sonra bazı yerlerinde yırtılma olduğunu görmüştür.

Bu durumda Ahmet'in öncelikle ne yapması gerekir?

- A) Mağazayı Tüketici Hakem Heyetine şikâyet etmelidir.
- B) Ayakkabısını, ayakkabı tamircisine götürmelidir.
- C) Ayakkabısını, faturasıyla birlikte mağazaya götürmelidir.
- D) Ayakkabısını giymeye devam etmelidir.

11. Tarımsal üretim azalır.

Barajlardaki elektrik üretimi düşer.

Çölleşme ve erozyon artar.

Yukarıda verilen durumlar, hangi kaynağın bilinçsizce kullanımı sonucu oluşur?

- A) Su
- B) Toprak
- C) Elektrik
- D) Kâğıt

12. Çiftliğinde büyükbaş hayvancılık, küçükbaş hayvancılık ve kümes hayvancılığı yapan Fehmi Bey, elde ettiği ürünleri satarak geçimini sağlamaktadır.

Buna göre, aşağıdakilerden hangisi Fehmi Bey'in çiftliğinde üretilen ürünlerden biri değildir?

- A) Süt
- B) Bal
- C) Yoğurt
- D) Yumurta

13. Aşağıda patatesin üretim, tüketim ve dağıtım aşamaları verilmiştir.

- 1) Çiftçinin patates toplaması
- 2) Çiftçinin patates ekmesi
- 3) Ayşe'nin manavdan patates alması
- 4) Çiftçinin patatesi manava satması
- 5) Sofrada patates yemeğinin olması

Aşağıdakilerin hangisinde bu aşamalar sırasıyla verilmiştir?

- A) 2-1-4-3-5
- B) 2-1-3-5-4
- C) 2-1-5-4-3
- D) 1-2-4-3-5

14. Aşağıdakilerden hangisi bir ekonomik faaliyet değildir?

- A) Okula gitmek
- B) Manav işletmek
- C) Çiftçilik yapmak
- D) Balıkçılık yapmak

15.



TSE damgası neyi ifade eder?

- A) Ürünün ithal edildiğini
- B) Ürünün Avrupa'da üretildiğini
- C) Ürünün Türkiye'de üretildiğini
- D) Ürünün Türk standartlarına uygun üretildiğini

16. Aşağıdaki eşleştirmelerden hangisi yanlıştır?

<u>Ham Madde</u>		<u>Ürün</u>
A) Pamuk	→	Pantolon
B) Buğday	→	Makarna
C) Deri	→	Ceket
D) Ahşap	→	Tencere

17. Kendini tanıtan aşağıdaki meslek sahiplerinden hangisi, farklı bir ekonomik alanda faaliyet gösterir?

- A) Keresteleri kullanarak ahşap eşyalar yapar, satarım.
- B) İnsanların canını ve malını korur, toplumda güvenliği sağlarım.
- C) Kişilere yasal konularda danışmanlık yapar, haklarını savunurum.
- D) Öğrencilerin sağlıklı bir ortamda eğitim alması için okulun temizliğini yaparım.

18. Nalan Hanım, mağazadan aldığı ütü arızalı çıkınca mağazaya tekrar gidip ürünün değiştirilmesini istedi. Mağaza sahibi, ürünlerinin hepsinin test edilip satışa sunulduğunu, arızalı olmasının mümkün olmadığını söyleyerek Nalan Hanım'ın değişim talebini reddetti.

Nalan Hanım, bilinçli bir tüketici olarak aşağıdaki hangi davranışı göstermelidir?

- A) Arızalı ütüü atıp yenisini almalıdır.
- B) Mağaza sahibiyle tartışmaya girmelidir.
- C) Tüketici Hakem Heyetine başvurmalıdır.
- D) Mağazayı, arkadaşlarına şikâyet etmelidir.

19.



Ürünlerin özelliklerine ilişkin bilgiler içeren çizgi ya da işaretlere barkod denir. Her ülkeyi simgeleyen barkod numaraları vardır. Bu numaraları ülkeler, ürettikleri ürünün üzerine yapıştırır.

Aşağıdakilerden hangisi ülkemizin barkod numarasıdır?

- A) 900 – 919
- B) 868 – 869
- C) 520 – 521
- D) 800 – 839

20. İnsanların temel ihtiyaçlarını giderdikten sonra isteklerini karşılamaya çalışmaları doğal bir durumdur. Ancak istekler çok çeşitlidir ve bunların hepsinin aynı anda karşılanması çoğu zaman mümkün olamamaktadır. Bu nedenle isteklerin karşılanmasında hem sağlayacağı fayda hem de bütçe durumu göz önüne alınmalıdır. Buna göre isteklerimizi sıra gözeterek gerçekleştirmeliyiz.

Yukarıda verilen bilgilere göre, aşağıdaki yargılardan hangisine ulaşamaz?

- A) İstekler sıraya koyulmalıdır.
- B) İlk önce temel ihtiyaçlarımız giderilmelidir.
- C) İsteklerimiz ne olursa olsun mutlaka giderilmelidir.
- D) İstekler karşılanırken elde edilecek fayda göz önünde bulundurulmalıdır.

21.

Madencilik

Çay üreticiliği


Sanayi

İzmit

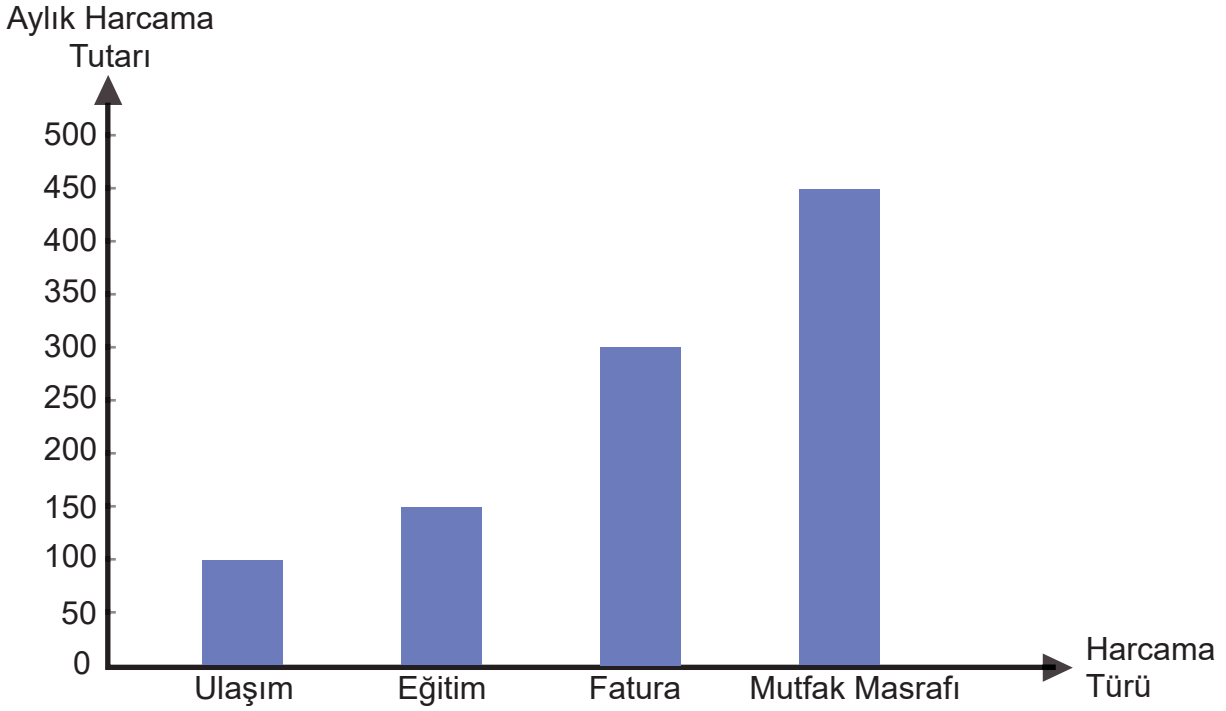
Rize

Zonguldak

Ülkemizde yapılan ekonomik faaliyetler ve bu faaliyetlerin yapıldığı iller eşleştirildiğinde aşağıdakilerden hangisine ulaşılır?



22. Aşağıda bir ailenin aylık harcamaları ile ilgili grafik verilmiştir.



Verilen grafiğe göre, aşağıdaki bilgilerden hangisine ulaşamaz?

- A) Mutfak giderleri 450 TL'dir.
- B) En az harcama ulaşımaya yapılmıştır.
- C) Ulaşım ve eğitim giderleri eşittir.
- D) Fatura giderleri eğitim giderlerinden fazladır.

23. Antalya ve çevresinde yaygın olarak görülen ekonomik faaliyettir. Bölgenin yıllık güneşlenme süresinin uzun olması bu faaliyet için oldukça önemlidir. Domates, biber, patlıcan ve salatalık gibi sebzeleri kış aylarında da tezgâhlarda görmemizi sağlar.

Yukarıda verilen bilgilerde hangi ekonomik faaliyetten söz edilmektedir?

- A) Pazarcılık
- B) Aşçılık
- C) Bahçıvanlık
- D) Seracılık

24. Bu oyunda, kartın üzerinde yazan kelimeyi yine kartta yazan kelimeleri kullanmadan takım arkadaşlarımıza anlatırız. Ezgi, mesleklerle ilgili arkadaşlarıyla oynayacağı bu oyun için hazırladığı kartlara yasaklı kelimeleri yazmış fakat meslek isimlerini yazmayı unutmuştur.

1. KART

Tarım

Köy

Traktör

Tarla

2. KART

Tatil

Gezi

Yabancı

Çeviri

3. KART

Araba

Direksiyon

Yol

Kamyon

Buna göre, kartlara yazılması gereken meslekler aşağıdakilerin hangisinde sırasıyla verilmiştir?

1.Kart

- A) Turist rehberi
- B) Çiftçi
- C) Çiftçi
- D) Şoför

2.Kart

- Şoför
- Turist rehberi
- Şoför
- Çiftçi

3.Kart

- Çiftçi
- Şoför
- Turist rehberi
- Turist rehberi

25. Pamuk üretiminin yapıldığı bir bölgede hangi ekonomik faaliyet ön plana çıkar?

- A) Dokumacılık
- B) Hayvancılık
- C) Ormancılık
- D) Turizm

26. Aşağıda ihtiyaçla ilgili verilen bilgilerden hangisi yanlıştır?

- A) Temel ihtiyaçlarımıza öncelik vermeliyiz.
- B) İhtiyaçlarımızı belirlerken bütçemizi dikkate almalıyız.
- C) Sosyal ve kültürel ihtiyaçlarımız hepimiz için aynıdır.
- D) Zorunlu ihtiyaçlarımız hayati önem taşır.

27. Aşağıdakilerin hangisinde sosyal ihtiyaçlardan biri yer almıştır?

- A) Aile yakınları ile sohbet etmek
- B) Yiyecek alışverişi yapmak
- C) Evde yemek hazırlamak
- D) Kışlık giysiler almak

28. Muğla ili; tarihî eserleri, sıcak iklimi, kumsalları ve diğer doğal güzellikleriyle önemli bir turizm merkezidir. Buraya gelen turistler genellikle otellerde ve tatil köylerinde konaklarlar. İldeki çeşitli meslek gruplarından pek çok insan geçimini turizmden sağlar. Otellerde görev yapan aşçılar, servis elemanları, bahçıvanlar, animatörler, tur operatörleri ve şoförler turizmle ilgili meslek gruplarında çalışanlardan bazılarıdır.

Yukarıdaki paragraftan hangi ifade çıkarılabilir?

- A) Muğla düz bir arazi yapısına sahiptir.
- B) Turizm sayesinde çeşitli meslek dallarına yönelik iş imkanları bulunmaktadır.
- C) Turistler çoğunlukla orman içinde bulunan otellerde kalırlar.
- D) Türkiye'nin doğal güzellikleriyle en ünlü şehri Muğla'dır.

29. I. Alışverişinden sonra fiş ya da fatura alarak
II. Fazla enerji tüketen ürünlere yönelerek
III. Geri dönüştürülebilecek ürünler kullanarak
IV. Ülke içinde üretilen ürünleri tercih ederek
V. Yılda bir cep telefonunu değiştirerek

Bilinçli bir tüketici, verilen davranışlardan hangilerini göstererek ülke ekonomisine katkı sağlamış olur?

- A) I, II ve III
B) I, III ve IV
C) III, IV ve V
D) II, IV ve V

30. ● Buğdaydan un yapılması
● Sütten peynir yapılması
● Biberden salça yapılması
● Kümeslerde tavuk beslenmesi

Yukarıda verilenlerin tamamı neye örnektir?

- A) İhracata
B) Üretime
C) Dağıtıma
D) Tüketime

31. 1. Sebze, meyve gibi gıdaları alırken tazeliğine dikkat etmeliyiz.
2. Ambalajlı gıdaların üretim ve son kullanma tarihlerini kontrol etmeliyiz.
3. En çok reklamı yapılan ürünleri satın almamız.
4. Alacağımız ürün için fiyat araştırması yapmalıyız.
5. Aynı kalitedeki ürünlerden pahalı olanını tercih etmeliyiz.
6. Aşırı ve gereksiz harcamalardan kaçınmalıyız.

Alışveriş yaparken göz önünde bulundurulması gerekenler aşağıdakilerin hangisinde verilmiştir?

- A) 1, 2 ve 3
B) 4, 5 ve 6
C) 1, 2, 4 ve 6
D) 3, 4, 5 ve 6

32.



Satın aldığımız ürünlerin üzerinde TSE dışında CE ve ISO gibi kalite ve güvenlik işaretleri bulunmalıdır.

Ayşe'nin verdiği bilgiden yola çıkarak "Ürün alırken neye dikkat etmelisiniz?" sorusuna verilen cevaplardan hangisi yanlıştır?

- A) Ürünlerde kalite ve güvenlik işaretlerinin olmasına dikkat edilmelidir.
- B) Aynı kalitedeki ürünleri alırken pahalı olan tercih edilmelidir.
- C) Ürünler Avrupa Birliği'nin koyduğu standartla uygun olarak üretilmiş olmalıdır.
- D) Canlılara ve çevreye zarar vermeyeceği belgelenen ürünler tercih edilmelidir.

33.



Alışveriş sırasında fiş veya fatura almak bir vatandaşlık görevidir.

Yasin'in söylediği gibi fiş veya fatura alma nedenimiz aşağıdakilerin hangisinde yanlıştır?

- A) Vergi gelirlerinin azalmasını önlemek
- B) Satış işleminin kayıtlara geçmesini sağlamak
- C) Vergilerin devlet hazinesine ulaşmasını sağlamak
- D) Ailemizin daha çok para kazanmasını sağlamak

34. Lale marketten aldığı sütün bozuk olduğunu gördü.

Lale'nin sütünü iade edebilmesi için markete ne ile gitmesi gerekir?

- A) Satış fişiyile
- B) Garanti belgesiyle
- C) Garanti belgesi ve satış fişiyile
- D) Kullanma kılavuzu ve satış fişiyile

35. Ahmet'in babası çalıştığı iş yerinden maaşını aldı. Akşam hep birlikte o aya ait gelir ve giderleri gösteren bir çizelge hazırladılar.

Ahmet'in, ailesiyle hazırladığı çizelgeye ne ad verilir?

- A) Bütçe
- B) Gider
- C) Üretim
- D) Tüketim

36. Bilinçli tüketicilerin önemli özelliklerinden biri de reklamların etkisinde kalmamalarıdır. Bir ürünün sadece reklamına bakılarak satın alınması doğru bir tüketici davranışı değildir. Ayrıca çanta, gözlük gibi ürünler yetkili satıcılardan alınmalıdır. Bu ürünlerin etiketleri mutlaka incelenmeli, sağlığa zararlı malzemelerden yapıp yapılmadıklarına bakılmalıdır.

Bu bilgilere göre aşağıdakilerden hangisi bilinçli bir tüketici davranışıdır?

- A) Genellikle reklamların etkisinde kalması
- B) Ürünleri yetkili satıcılardan almaya özen göstermesi
- C) Ürünlerin etiketini okumadan satın alması
- D) Ürünün yapıldığı malzemeye bakmadan satın alması

37. Esmâ'nın ailesi, bilinçli bir tüketicinin yapması gereken hassasiyeti göstererek alışverişlerini yapmaktadır.

Buna göre, Esmâ'nın ailesi alışveriş yaparken aşağıdakilerden hangisine dikkat etmektedir?

- A) Ambalaj renklerine
- B) Marketin büyüklüğüne
- C) Ürünün sergilendiği raflara
- D) Ürünün aile bütçesine uygunluğuna

38. Aşağıdakilerden hangisi Türk Standartları Enstitüsünün görevidir?

- A) Ürünlerin satışını yapabilecek kişiler yetiştirmek
- B) Ürünlerin, standartlara uygun olup olmadığını belirlemek
- C) Uygun kalitelerde ürün üretecek fabrikalar kurmak
- D) Yurt içine ve yurt dışına kaliteli ürün üretip satmak

39. Ürünlerin standartlarını belirleme amacıyla 1960 yılında kurulmuştur. Sanayi ve Teknoloji Bakanlığına bağlı olarak faaliyet gösterir.

Buna göre bu kuruluş aşağıdakilerden hangisidir?

- A) Sağlık Bakanlığı
- B) Tarım ve Orman Bakanlığı
- C) Türk Standartları Enstitüsü
- D) Türkiye Bilimsel ve Teknolojik Araştırma Kurumu

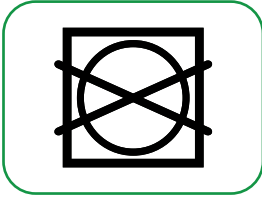
40. Aşağıdakilerden hangisi su israfını önlemek için alabileceğimiz önlemlerden biri değildir?

- A) Dişlerimizi fırçalarken musluğu kapatmak
- B) Duş süresini mümkün olduğunca kısa tutmak
- C) Evimizdeki damlatan muslukların tamirini ertelemek
- D) Meyve ve sebzeleri yıkadığımız suyla çiçekleri sulamak

41. Tekstil ürünlerini daha uzun süre ve doğru şekilde kullanmak için aldığımız ürünlerin etiketindeki anlamları bilmemiz gerekir.

Aşağıdaki etiket işaretleri ve anlamları eşleştirmesinde hangisi yanlış verilmiştir?

A)



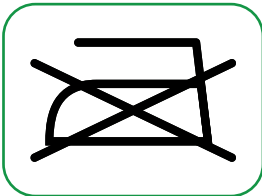
Makinede Kurutulmaz

B)



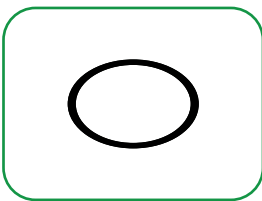
30 Derecede Elde
Yıkama

C)



Ütü Yapılmaz

D)



Kuru Temizleme
Yapılmaz

42.

- I. Tiyatroya gitmek
- II. Oyun oynamak
- III. Seyahate çıkmak
- IV. Arkadaşlarıyla parkta oyun oynamak
- V. Beslenme, barınma ve giyinme ihtiyaçlarını temin etmek

Numaralanmış ifadelerden hangileri sosyal ve kültürel ihtiyaçlara örnektir?

- A) I, II ve III
- B) II, IV ve V
- C) I, II, III ve IV
- D) II, III, IV, ve V

43. "İhtiyaçlarını karşılamak için bir ürün ortaya çıkarmayaI....., üretilen mal ve hizmetlerin tüketicilere ulaştırılmasınaII....., mal ve hizmetlerin ihtiyaçları karşılamak amacıyla kullanılmasınaIII..... denir."

Numaralanmış yerlere aşağıdakilerden hangisi sırasıyla getirilmelidir?

- I II III
- A) üretim - tüketim - dağıtım
B) tüketim - dağıtım - üretim
C) üretim - dağıtım - tüketim
D) dağıtım - üretim - tüketim

44. **Aşağıdakilerden hangisi istek değildir?**

- A) Arkadaşlarıyla beraber doğa yürüyüşü yapmak
B) Yırtılan ayakkabısı yerine yenisini almak
C) Tiyatroya gitmek
D) Seyahat etmek

45. İhtiyaç ve istekler giderilirken bütçe durumunun yanı sıra fayda-maliyet dengesi de göz önünde bulundurulmalıdır. Fayda, alınacak mal veya hizmetlerin ihtiyaçları karşılama özelliğidir. Elde edilecek fayda için harcanan paraya ise maliyet denir. Yapılan harcama, giderilmek istenen ihtiyacı veya isteği karşılamışsa fayda-maliyet dengesi sağlanabilmiş demektir.

Buna göre, aşağıdakilerden hangisini fayda-maliyet dengesinin sağlanmasına örnek olarak verebiliriz?

- A) Aynı ayakkabının iki farklı rengini satın almak
B) Kışın sert geçtiği yerlerde evlere izolasyon yaptırmak
C) Buz pateni salonu olmayan bir şehirde paten satın almak
D) Trafiğin yoğun olduğu şehirlerde toplu taşıma yerine özel araç kullanmak

46. **Aşağıdakilerden hangisi aile bütçesini planlarken bütçeye eklenmesi gereken öncelikli bir ihtiyaç değildir?**

- A) Kira
B) Giyim
C) Ulaşım
D) Eğlence

47. Her ailenin bir bütçesi vardır. Bütçe gelecekteki belirli bir süre için tasarlanan gelir ve giderleri ifade eder. Bizim ailemizde bütçe gelirlerinin önemli bir kısmını fındık satışından elde ettiğimiz kazanç oluşturur. Gelirlerimiz genel olarak giderlerimizi karşılayacak düzeydedir. Bununla birlikte olumsuz hava şartları nedeniyle bazı yıllarda fındık üretimi düşer. Bu nedenle babam gelirimizin tamamını harcamayıp bir kısmını ürün kıtlığı yaşandığında kullanmak üzere biriktirir.

Bu bilgilere göre, aşağıdaki ifadelerden hangisine ulaşılır?

- A) Bütçe, önceki yıla ait belirli bir süre için tasarlanan gelir ve giderleri ifade eder.
- B) Aile, bütçe gelirlerinin küçük bir kısmını fındık satışlarından elde eder.
- C) Ailenin gelirleri genel olarak giderlerini karşılayacak düzeydedir.
- D) Aile her yıl eşit miktarda fındık üretimi yapmaktadır.

48.



Ben İzmit'te yaşıyorum. İzmit, sanayi tesislerinin yoğun olarak bulunduğu bir şehirdir. Petrol rafinerisi ve petrokimya tesislerinin dışında çeşitli sanayi dallarında üretim yapan çok sayıda sanayi kuruluşu da vardır. Bunlar; otomobil, yedek parça, cam, ilaç, kâğıt, lastik, dokuma, beyaz eşya, gübre, makine ve gıda maddeleri üreten fabrikalardır. Bölge, sanayide olduğu gibi ticaretle de gelişmiştir.

Buna göre, Nihat'ın yaşadığı yerle ilgili aşağıdaki yargılardan hangisine ulaşamaz?

- A) Bölgede en çok beyaz eşya üretilmektedir.
- B) Bölgede sanayi ve ticaret alanları gelişmiştir.
- C) Çeşitli sanayi dallarında üretim yapan çok sayıda sanayi kuruluşu vardır.
- D) Fabrikalarda gıda, otomobil parçaları, ilaç, gübre gibi ürünler üretilmektedir.

49. Satın aldığımız bir ürünün hatalı olması durumunda değiştirme hakkını kullanabilmemiz için ürünü satın alırken aşağıdakilerden hangisini mutlaka almamız gerekir?

- A) Ambalajını
- B) Satış fişini
- C) Garanti belgesini
- D) Kullanım kılavuzunu

50. Garanti belgesi, dayanıklı tüketim malları için düzenlenir. Bu belge ait olduğu ürünün belli bir süre içinde bozulması hâlinde tüketicinin zarar görmesini engeller. Böyle durumlarda üretici firma, dürüst ve adil olma ilkesi gereği ürünü ya tamir eder ya da yenisiyle değiştirir.

Buna göre garanti belgesi, aşağıdaki ürünlerden hangisi için düzenlenir?

- A) Diş macunu
- B) Konserve
- C) Kuru bakliyatlar
- D) Kahve makinesi

51. Yusuf'un ailesi evlerine bir çamaşır makinesi aldı. Ancak çamaşır makinesi kısa bir süre sonra bozuldu.

Buna göre çamaşır makinesinin, belli bir süre ücretsiz tamir edilmesi hakkını sağlayan belge aşağıdakilerden hangisidir?

- A) Etiket
- B) Fatura
- C) Garanti belgesi
- D) Kullanma kılavuzu

52. I. TSE belgesinin olmasına
II. Reklamlarının çok yapılmış olmasına
III. Kullanma kılavuzunun bulunmasına
IV. Ambalaj içinde muhafaza edilmesine
V. Garanti belgesinin olmasına

Yeni bir buzdolabı almak isteyen Ali Bey, yukarıdakilerden hangilerine dikkat etmelidir?

- A) I, II ve III
B) II, III ve IV
C) I, III, IV ve V
D) II, III, IV ve V

53. **Alışveriş yaparken aşağıdakilerden hangisine dikkat etmemize gerek yoktur?**

- A) Çok reklamı yapılan ürünleri tercih etmeye
B) İhtiyacımız olan ürünlere öncelik vermeye
C) Ürünlerin kaliteli olmasına dikkat etmeye
D) Ürünlerin fiyat araştırmasını yapmaya

54. Cansu Hanım, ambalajlı ürün satın alırken aşağıdaki işaretin ambalajın üzerinde olmasına özen göstermektedir.













Buna göre Cansu Hanım, aşağıdakilerden hangisine özen göstermektedir?

- A) Ürünlerin Türkiye’de üretilmiş olmasına
B) Aldığı ürünün belirlenen ihtiyaçları karşılmasına
C) İçinde katkı maddesi içermeyen ürünler satın almaya
D) Ambalajların geri dönüştürülebilir malzemelerden üretilmesine

55. Aşağıdakilerden hangisi geri dönüşüm kutusuna atılmaz?

- A) Okunmuş gazete
- B) Bayatlayan ekmek
- C) Kapağı olmayan cam kavanoz
- D) Kullanılmış plastik su şişesi

56. Aşağıda ihtiyaç belirten cümlelerin başındaki çiçeği maviye, istek belirten cümlelerin başındaki çiçeği turuncuya boyayınız.

	a. Gizem, geçen yılki montu küçük geldiği için yeni bir mont alınmasını istiyor.
	b. Ayakkabısı eskiyen Seray, teyzesi ile ayakkabı almaya gitti.
	c. Yüksel ve arkadaşları hafta sonu sinemaya gitmek için bilet aldılar.
	ç. Serkan, oyuncakçının vitrininde gördüğü uzaktan kumandalı arabayı almak istiyor.
	d. Leyla, okul açılınca kırtasiyeden defter, kalem, silgi ve boya kalemleri aldı.
	e. Kardeş olan Bahadır ve Tolga iki tane futbol topu almak istiyor.
	f. İlkay, kendisine akıllı saat almak istiyor.
	g. Şeyda'nın babası maaşını aldığı anda ilk olarak ev kirasını ödüyor.
	ğ. İsmail, oyuncak akülü araba almak için para biriktiriyor.
	h. Emsal Teyze, bozulan çamaşır makinesinin yerine yeni bir çamaşır makinesi aldı.

57. Aşağıda verilen ekonomik faaliyetlerin altındaki noktalı yerlere, bu alanlarda çalışan meslek gruplarını yazınız.

TARIM	TURİZM	SANAYİ	HİZMET
<input type="checkbox"/>	<input type="checkbox"/>	<input type="checkbox"/>	
<input type="checkbox"/>		<input type="checkbox"/>	
<input type="checkbox"/>		<input type="checkbox"/>	

58. Aşağıda ülkemizde yürütülen ekonomik faaliyetlerle bu faaliyetlerin yapıldığı şehirler verilmiştir. Numaraları kullanarak bu şehirleri ve ekonomik faaliyetlerini eşleştiriniz.

1	ZONGULDAK	TURİZM	
2	İZMİT	SANAYİ	
3	RİZE	FINDIK ÜRETİMİ	
4	ANTALYA	ÇAY ÜRETİMİ	
5	GİRESUN	TAŞ KÖMÜRÜ	

59. Aşağıda bilinçli tüketicinin özelliklerinin doğru anlatıldığı cümlelerin başındaki yuvarlağı yeşile, yanlış anlatıldığı cümlelerin başındaki yuvarlağı ise kırmızıya boyayınız.

Bilinçli Tüketici

- a. Satın alacağı ürünün etiketini her zaman inceler.
- b. Son kullanma tarihi geçmiş ürünleri satın almaz.
- c. Yeni aldığı bir oyuncak bozursa onu atar ve yenisini alır.
- ç. Alacağı bilgisayarın garanti belgesi ve faturasının olduğundan emin olur.
- d. Satın alacağı ürünün ucuz olması onun için yeterlidir.
- e. Beğendiği her ürünü satın alır.

60. Aşağıda verilen ekonomik faaliyetlerin, ilgili olduğu alanları “√” işareti ile belirtiniz.

Ekonomik Faaliyetler	Üretim	Dağıtım	Tüketim
Ürünlerin yurt dışına ihraç edilmesi			
Yetiştirilen zeytinlerin işlenerek zeytin yağı elde edilmesi			
Mağazalardan ihtiyacımız olan giysiler almak			
Ham olarak fabrikaya getirilen petrolün rafineride işlenerek benzin haline dönüştürülmesi			
Pamukların iplik haline dönüştürülerek tekstil ürünleri elde edilmesi			
Fabrikalarda üretilen ürünlerin satış yerlerine ulaştırılması			
Buğdayın fabrikalarda işlenerek un hâline dönüştürülmesi			
Marketten alışveriş yapmak			
Çiftlikte beslenen hayvanlardan süt, tereyağı peynir gibi ürünler elde edilmesi			
Çiftlik ürünlerinin halka ve marketlere ulaştırılması			
Fırından ekmek almak			
Patatesin işlenerek cips ve çerez hâline dönüştürülmesi			

61. Aşağıdaki cümlelerde verilen noktalı yerlere tablodaki uygun ifadeleri yazınız.

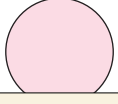
sanayi	tüketim	su israfı	seracılık	istek
ihtiyaç	hayvancılık	ziraat mühendisliği	balıkçılık	gelir
ekmek israfı	temel	israf	dağıtım	ekonomik faaliyet
zaman israfı	üretim	TSE	gider	meslek

1. Aldığımız ürünler standartlara uygun üretilmiş ise üzerinde işaretinin olması gerekir.
2. Marmara Bölgesi, ülkemizde yönünden en gelişmiş bölgedir.
3. ülkemizdeki tarımsal üretimin azalmasına neden olur.
4. Fabrikalarda toplanan ham maddelerin, işlenerek bir ürün haline dönüştürülmesine denir.
5. İnsanlara hizmet vermek ve karşılığında para kazanmak için yapılan işe denir.
6. Doğu Anadolu Bölgesi'nde insanlar, yeryüzü şekilleri sebebiyle daha çok yaparak geçimlerini sağlamaktadır.
7. Karşılanmadığında yaşamsal faaliyetlerimizi doğrudan etkilemeyen ihtiyaçlara denir.
8. Bir hizmet veya ürün karşılığı harcanan paraya denir.
9. kaynakların, ürünlerin, emeğin ve zamanın boş yere harcanmasıdır.
10. tarım sektöründe faaliyet gösteren bir meslek dalıdır.
11. Ülkemizde kış mevsiminin ılık geçtiği Akdeniz Bölgesi'nde, önemli bir ekonomik faaliyettir.
12. Paketli ekmek tüketimi, yapmamak için yaygınlaştırılmalıdır.
13. Ülkemizde daha çok Karadeniz Bölgesi'nde yapılan bir ekonomik faaliyettir.
14. Üretilen veya yapılan şeylerin kullanılıp harcanmasına denir.

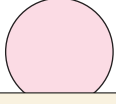
62. Aşağıda verilen ifadeler doğruysa başlarında bulunan yay ayraç içine “D”, yanlışsa “Y” yazınız.

1. () Bozulan muslukları tamir ettirmeliyiz.
2. () Bayatlayan ekmekleri farklı yemeklerde kullanmak için değerlendirmeliyiz.
3. () Küçük gelen giysilerimizi başkalarının da kullanması için vermeliyiz.
4. () Vaktimizi televizyon karşısında değerlendirmeliyiz.
5. () Kullanılmış kâğıtları çöpe atmalıyız.
6. () Elbise ve ayakkabılarımızı çabuk eskitecek hareketlerden kaçınmalıyız.
7. () Giysilerimizi tamir ettirip tekrar giymeliyiz.
8. () Yemekte tabağımıza istediğimiz kadar yemek doldurmeliyiz.
9. () Sınıfımızda ders yaparken lambalar her zaman açık olmalıdır.
10. () Artan yemekleri daha sonra tüketmek üzere uygun koşullarda saklamalıyız.

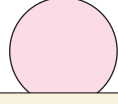
63. Aşağıda verilen ifadeler ile bu ifadelere karşılık gelen tanımları eşleştiriniz.



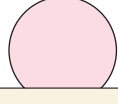
Su israfı



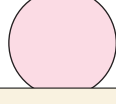
Elektrik israfı



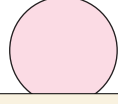
Giysi israfı



Ekmek israfı



Kâğıt israfı



Zaman israfı

1

Oyuna, televizyon seyretmeye, uykuya ve yemeğe gereğinden fazla zaman harcamak.

2

Kullandığımız giysileri, kardeşlerimizin veya ihtiyacı olan başka çocukların da kullanabileceğini düşünerek temiz tutmaya ve doğru koşullarda saklamaya dikkat etmemek.

3

Kullanılmış kağıtları ya da kartonları çöpe atmak.

4

Çamaşır ve bulaşık makinesini ekonomik programda çalıştırmayıp, buzdolabını güneş ışığı görecektir şekilde yerleştirmek.

5

Duş süresini uzun tutup, bozuk muslukları tamir ettirmemek.

6

Yiyebileceğimizden fazla ekmek alıp, bayatlayanları çöpe atmak.

64. Aşağıda verilen ifadeler doğruysa başlarında bulunan yay ayraç içine “D”, yanlışsa “Y” yazınız.

1. () Reklamı yapılan ürünlerin hepsi kalitelidir.
2. () Televizyon, temel ihtiyaçlarımızdan biridir.
3. () Bütçe hazırlarken gelir ve giderler arasında denge kurulmalıdır.
4. () Tüketicinin haklarından birisi de hatalı malı değiştirmek ya da geri vermektir.
5. () Bir ürünün standartlara uygunluğunu TSE belirler.
6. () Bütün meslekler toplum için önemlidir.
7. () Sosyal ihtiyaçlarımızın karşılanması yaşamımızı kolaylaştırır.
8. () İnsanların, çalışmalarının karşılığında aldığı paraya tasarruf denir.
9. () İnsanların, geçimlerini sağlamak için çalıştıkları iş kollarına meslek denir.
10. () Ülkemizde ambalajlı gıda ürünleri Tarım ve Orman Bakanlığının izni ile üretilir.

65. Aşağıda verilen ekonomik faaliyetlerin “üretim, dağıtım ve tüketim” faaliyetlerinden hangisi ile ilgili olduğunu “X” ile işaretleyiniz.

EKONOMİK FAALİYET	ÜRETİM	DAĞITIM	TÜKETİM
Mağazadan oyuncak satın almak			
Fırından ekmek almak			
Çiftçinin tarlasına patates ekmesi			
Undan ekmek yapmak			
Tahta parçalarından masa, sandalye yapmak			
Kargo şirketinin paketleri adrese ulaştırması			
Pazardan domates almak			
Sütleri dondurma fabrikasına götürmek			
Fabrikada biber salçası yapmak			
Yemek yemek			

66. Aşağıda verilen cümlelerin karşısına “üretim, dağıtım, tüketim” sözcüklerinden uygun olanı yazınız.

Okullarımıza ders kitaplarının ulaşması

.....

Ders kitaplarının basılması

.....

Çocuk kitapları satın alınması

.....

Araçların, fabrikada montajının yapılması

.....

Fabrikanın, kolay ulaşım yolları üzerinde olması

.....

İnsanların, araç alıp kullanması

.....

Salataya zeytinyağı katılarak yenmesi

.....

Zeytinlerin toplanıp zeytinyağı yapılması

.....

Zeytinyağının marketlere ulaşması

.....

Buğdayın, fabrikada un hâline geldikten sonra fırınlara ulaştırılması

.....

Fırından ekmek alınması

.....

Ekilen buğdayın toplanması

.....

67. Aşağıdaki cümlelerde verilen bilgiler doğru ise cümlenin başındaki daireyi yeşile, yanlış ise daireyi kırmızıya boyayınız.

a. Bayatlayan ekmekleri köfte harcında kullanabiliriz.

b. Bulaşıkları bol suda elimizde yıkamalıyız.

c. Boş zamanlarımızda bolca uyuyup uykumuzu almalıyız.

ç. Ütülenecek kıyafetlerimizi biriktirip tek seferde ütülermeliyiz.

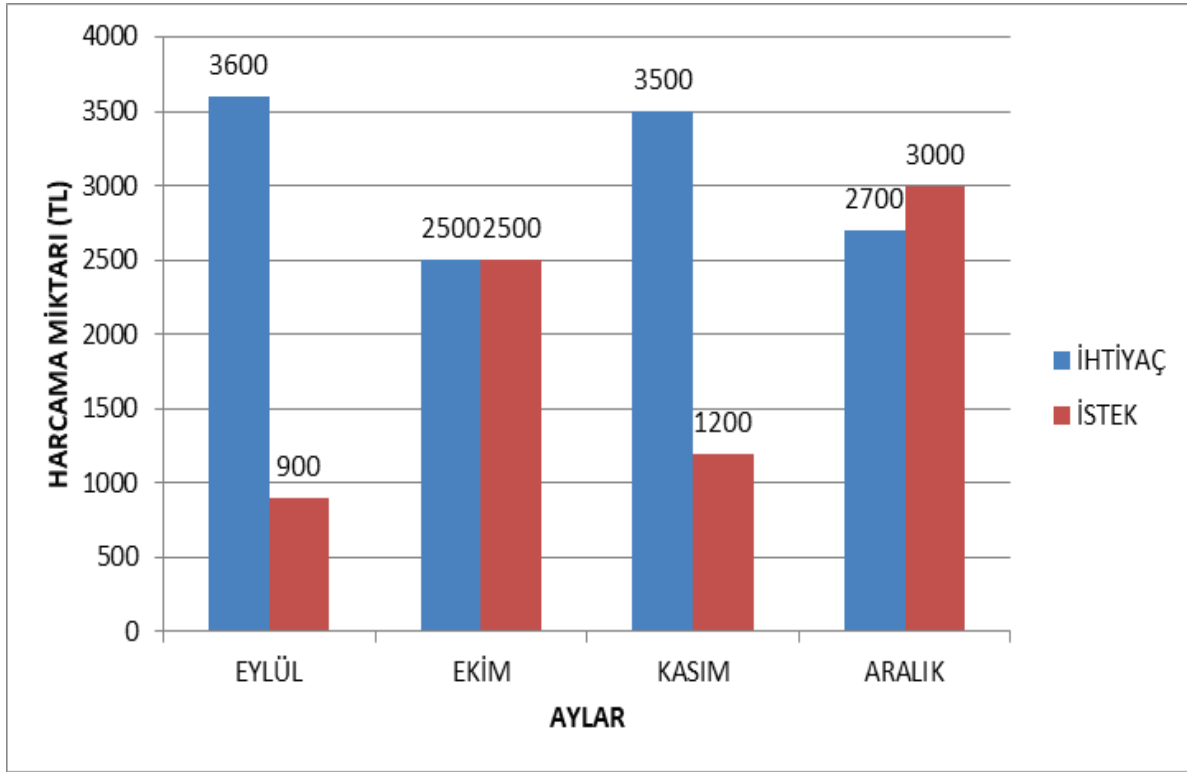
d. Topluma açık alanlarda sensörlü musluklar kullanmalıyız.

e. Boş zamanlarımızda ilgi alanlarımıza yönelik araştırma yapabiliriz.

f. Her gün ihtiyacımızdan fazla ekmek almalıyız.

g. Elektronik aletlerimizin şarjı dolduğunda fişi prizden çekmeliyiz.

68. Aşağıda aylık geliri 5000 TL olan Tülin Hanım'ın eylül, ekim, kasım ve aralık aylarına ait harcama grafiği verilmiştir.



Aşağıda verilen soruları grafiğe göre cevaplayınız.

1. En fazla hangi ay tasarruf sağlamıştır?
2. Hangi ay gelirinden fazla harcama yapmıştır?
3. Dört aylık bütçesinin sonunda ne kadar tasarruf etmiştir?
4. Hangi aydaki istek ve ihtiyaç harcaması eşittir?
5. Zorunlu olan harcamaları en çok hangi ayda yapmıştır?
6. Kasım ayında istek harcaması yapmasaydı o ay ki tasarrufu ne kadar olurdu?
7. Hangi aylarda tasarruf yapabilmıştır?

69. Aşağıda verilen ifadelerin hangi ihtiyacımıza yönelik olduğunu bulunuz ve cevabınızı karşısına yazınız.

Beslenme	Barınma	Giyim	Sağlık	Eğitim
----------	---------	-------	--------	--------

Hafta içi aksatmadan okula giderim.
Günde üç öğün yemek yerim.
Evimizin akıtan çatısını tamir ettik.
Dişim ağrıdığı için doktora gittim.
Ayakkabım küçüldüğü için yeni bir ayakkabı aldık.

70.



Arkadaşlar! Aşağıdaki sembollerin anlamlarını unuttum, sembollerin ifade ettiği anlamları yanlarına yazarak bana yardım edebilir misiniz?

	<hr/> <hr/> <hr/>
	<hr/> <hr/> <hr/>
	<hr/> <hr/> <hr/>
	<hr/> <hr/> <hr/>
 8 69	<hr/> <hr/> <hr/>

71. Aşağıda verilen ifadeler doğruysa başlarında bulunan yay ayraç içine “D”, yanlışsa “Y” yazınız.

- 1.() Giderlerimiz gelirlerimizden fazla olursa tasarruf yapabiliriz.
- 2.() Reklamlardaki her ürünü güvenerek alabiliriz.
- 3.() Dayanıklı tüketim mallarını alırken garanti belgesini almayı unutmamalıyız.
- 4.() Kaynaklarımızı bilinçli kullanmak hepimizin görevidir.
- 5.() Ürünleri satın alan ve kullanan kişilere üretici denir.
- 6.() Alışveriş yapmadan önce mutlaka liste hazırlamalıyız.
- 7.() Üretilen bir ürünün bir yerden başka bir yere taşınmasına dağıtım denir.
- 8.() Oyun oynamak bir çocuğun en önemli sosyal ihtiyaçlarındanındır.
- 9.() Sosyal ihtiyaçlar hepimiz için aynıdır.
- 10.() Canlılar, beslenme ihtiyaçlarını karşılayamazsa yaşayamazlar.

72. Aşağıdaki cümlelerde verilen noktalı yerlere kutulardaki ifadelerden uygun olanları yazınız.

üretim

TSE

garanti belgesi

son kullanma

ham madde


hakem

aile bütçesi

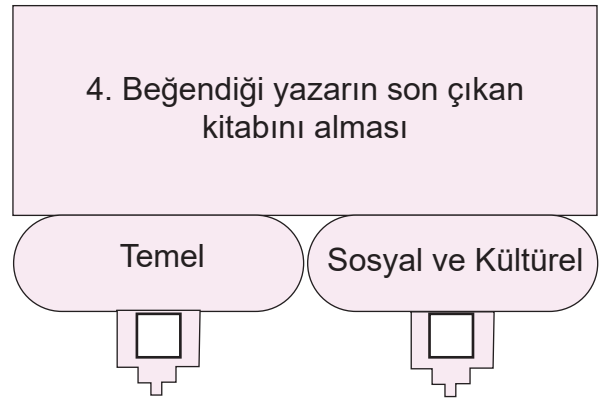
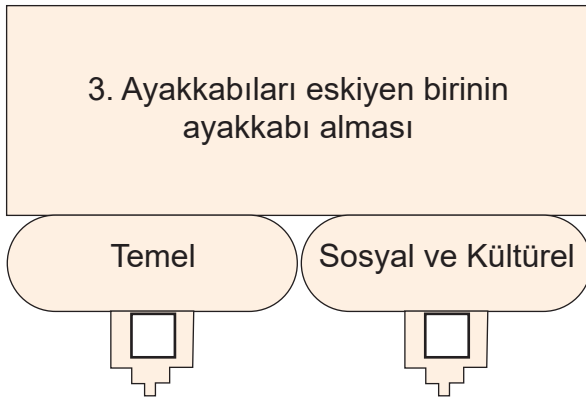
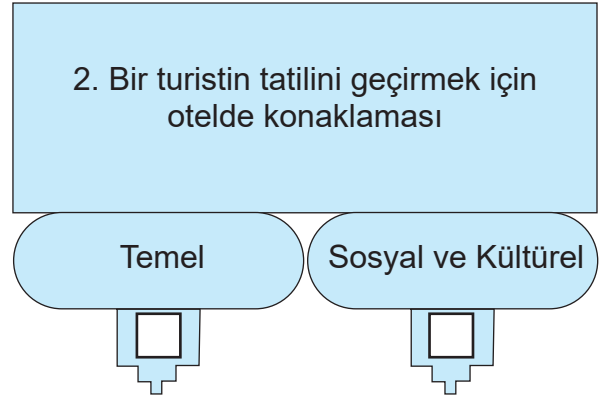
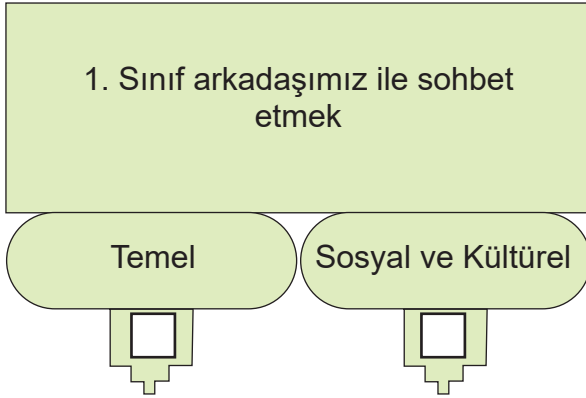
1. Standartlara uygun olarak üretilmiş ürünlerde işareti bulunur.
2. Şeker pancarı, pamuk, keten, buğday gibi çeşitli ürünler olarak kullanılır.
3. Dayanıklı tüketim maddeleri alırken mutlaka istemeliyiz.
4. Paketli ürün, temizlik maddesi gibi ürünlerin tarihine bakmalıyız.
5. Aldığımız ürünlerle ilgili sorun yaşadığımızda Tüketici Heyetine başvururuz.
6. Ailemizin gelirini ve giderlerini planlamasına denir.
7. Toplumun ihtiyacı olan ürünleri sağlamak için yapılan çalışmalara denir.

73. Aşağıdaki tanımların karşılığını bulup bulmacayı tamamlayınız.


1. Bir ürünün belirli bir süre içerisinde değişimini ve tamirini sağlayan belge.
2. Ürünün cinsini, miktarını ve fiyatını bildirmek için satıcının verdiği belge.
3. "869" barkod numarasına ait ürünün gösterdiği özellik.
4. Ürünün işlenmeden önceki hâli.
5. İnsanların kazançlarını belli bir süre nasıl kullanacağını gösteren plan.
6. Aşırı harcamalardan kaçınan.
7. Bir kimseye, belli zamanlarda belli yerlerden gelen para.



74. Aşağıda verilen temel, sosyal ve kültürel ihtiyaçların ilgili olduğu alanı "X" işareti ile belirtiniz.



75. Görselleri verilen ürünlerden geri dönüşüm yapılanları "X" ile işaretleyiniz.




76. Ürün ambalajlarının üzerindeki bazı işaretler aşağıda verilmiştir.

Bu işaretler ile bu işaretlerin anlamlarını eşleştiriniz.



1

Ürün, Avrupa Birliğinin koyduğu standartlara uygun olarak üretilmiştir.




2

Ürün, Uluslararası Standart Organizasyonuna göre belirlenen ihtiyaçları karşılamaktadır.



3

Ürün, Türk Standartları Enstitüsü standartlarına uygun olarak üretilmiştir.



4

Ürün ambalajının geri dönüştürülebilir veya geri kazanılabilir bir malzemeden üretildiğini gösterir.

77. Aşağıdaki tabloda verilen mesleklerin, hangi ekonomik faaliyetle ilişkili olduğunu "X" işareti ile belirtiniz.

MESLEKLER	EKONOMİK FAALİYETLER				
Meslekler	TARIM	SANAYİ	TURİZM	HİZMET	ULAŞIM
Öğretmen					
Pilot					
Turist Rehberi					
Doktor					
Çiftçi					
Balıkçı					
Polis					
Fabrika İşçisi					

78.



Bilinçli bir tüketicinin aşağıda verilen davranışlardan hangilerini yapması beklenir? İşaretleyiniz.

İhtiyaç ve isteklerini ayırt edebilmelidir.

Alışveriş listesi oluşturmalıdır.

Sadece hoşuna giden ürünleri almalıdır.

İndirimli fiyatı olan tüm ürünlerden almalıdır.

İsraftan kaçınmalıdır.

Satın alacağı ürünün kalitesini bilmelidir.

Alışveriş yaparken ithal ürünlere öncelik tanımalıdır.

Son kullanma tarihine dikkat ederek zaman harcamamalıdır.

İhtiyaç önceliğine göre alışveriş yapmalıdır.

79. Aşağıda verilen görsellerin, ilgili oldukları ekonomik faaliyetleri altlarındaki boşluklara yazınız.



.....



.....



.....



.....



.....



.....



.....



.....



.....

80. Aşağıda verilen ifadeler doğruysa başlarında bulunan yay ayrıç içine “D”, yanlışsa “Y” yazınız.

- 1.() İnsanların geçimlerini sağlamak için çalıştıkları iş kollarına meslek denir.
- 2.() Reklamı yapılan her ürün kalitelidir.
- 3.() Bütün meslekler toplum için önemlidir.
- 4.() Bisiklet, temel ihtiyaçlarımızdan biridir.
- 5.() Sosyal ihtiyaçlarımızın karşılanması yaşamımızı kolaylaştırır.
- 6.() Gelir ve giderler arasında denge kurarak bütçe yapmalıyız.
- 7.() Bir ürünün, standartlara uygunluğunu mahkemeler belirler.
- 8.() Hatalı ürünü değiştirmek ya da geri vermek tüketicinin hakkıdır.
- 9.() Alışveriş yaparken satış fişi ya da fatura alınması devletimize vergi ödenmesini sağlar.
- 10.() Bilinçli bir tüketici alışveriş yaptıktan sonra ihtiyaç listesi hazırlar.

81. Aşağıdaki cümlelerden bilinçli tüketiciyi anlatan davranışları “√” işareti ile bilinçli tüketiciye uygun olmayan davranışları ise “X” işareti ile belirtiniz.

	TÜKETİCİ DAVRANIŞLARI	
1	Alışveriş yaparken bir listeye bağlı kalmam.	
2	Alışveriş sırasında ailemin tavsiyelerini dikkate alırım.	
3	Ürünlerin ambalajlarını dikkatle inceler, son tüketim tarihlerini okurum.	
4	Ürünlerin gerçek değerinin ne olduğunu tespit etmek için fiyat araştırması yaparım.	
5	Ürünlerin içeriğinden çok görüntüsüne önem veririm.	
6	Üzerinde TSE damgası bulunan ürünleri satın almaya özen gösteririm.	
7	Satın alacağım bir üründe ülkeme ait bir bakanlığın veya kurumun onayının olması benim için önemlidir.	
8	Satın aldığımız ürünlerin üzerinde CE ve ISO gibi kısaltmaların bulunması ürünün uluslararası kalite standartlarına uygunluğunu artırmaktadır.	
9	Ambalajların geri dönüştürülebilir olanlarını tercih ederim.	
10	Satın aldığımız bir ürünün fişini veya faturasını almak gerekmez.	
11	Televizyonda izlediğim reklamlara göre alacağım ürünü belirlerim.	
12	Gözlük, kırtasiye malzemeleri, kıyafet gibi ürünleri yetkili satıcılardan alırım ve sağlığa zararlı maddelerden yapılıp yapılmadığına dikkat ederim.	

82. İLİMİZİ TANIYALIM



A. Türkiye Siyasi Haritası'nda yaşadığınız ili bulunuz.

.....

B. Bu ilin sınırları içinde hangi ilçeler var? Yazınız.

.....

C. Yaşadığınız yerde yapılan ekonomik faaliyetleri işaretleyiniz.

Tarım

Ticaret

Turizm

Sanayi

Ulaşım

Madencilik

Hayvancılık

Ç. Yaşadığınız yerde ülke ekonomisine katkı sağlayan ürünler var mı? Varsa bunların neler olduğunu yazınız.

.....

D. Yaşadığınız yerde üretilen ürünler, ülke içi mi değerlendiriliyor yoksa diğer ülkelere de gönderiliyor mu? Yazınız.

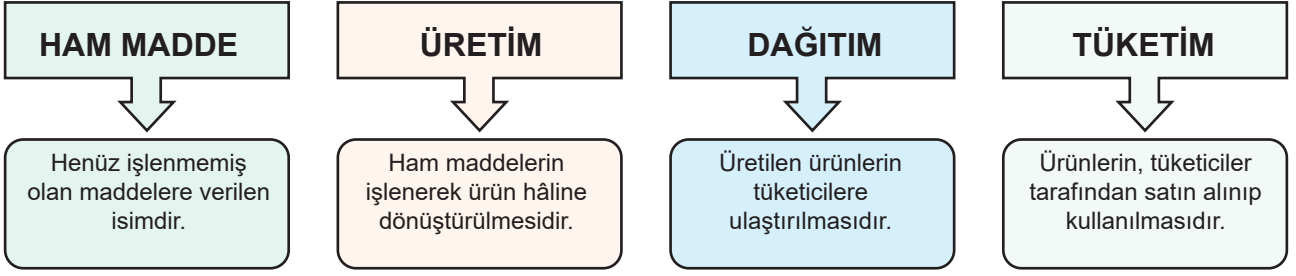
.....

83. Aşağıda verilen numaralandırılmış ifadeleri tanımları ile eşleştiriniz.

1	Yapılan bir çalışma veya işin karşılığında alınan para.
2	Bir kurumun, bir ailenin gelir ve giderlerinin toplamı.
3	Var olan kaynakların hesapsız olarak harcanması.
4	Ailenin geçimini sağlamak için kazanılan ücret.
5	Ailenin temel ihtiyaçlarını karşılamak için yapılan harcama.
6	Bir kimsenin geçimini sağlamak için sürekli yaptığı iş.
7	Doğal kaynakların bazı işlemlerden geçerek ürüne dönüşmesi.
8	Ürünlerin, belli bir ücret karşılığında alınıp kullanılması.
9	Ürünlerin standartlarını belirleyen kurum.
10	Üretilmiş malı, tüketicinin satın alabileceği yerlere ulaştırma işi.
11	İnsanın yaşaması için gerekli olan her şey.

	Dağıtım
	Meslek
	İhtiyaç
	Tüketim
	Bütçe
	Gelir
	Üretim
	TSE
	İsraf
	Gider
	Ücret

84. Aşağıda bir ürünün hangi aşamalardan geçtiği verilmiştir.




Yukarıda verilen bilgilerden yola çıkarak aşağıdaki ifadelerin ilgili olduğu aşamayı işaretleyiniz.


	Ham Madde	Üretim	Dağıtım	Tüketim
Çiftliklerde beslenen ineklerin sağılması	<input type="checkbox"/>	<input type="checkbox"/>	<input type="checkbox"/>	<input type="checkbox"/>
Sağılan sütlerin, süt fabrikalarına götürülmesi	<input type="checkbox"/>	<input type="checkbox"/>	<input type="checkbox"/>	<input type="checkbox"/>
Fabrikalarda pastörize edilen sütte; peynir, yoğurt, ayran gibi süt ürünleri elde edilmesi	<input type="checkbox"/>	<input type="checkbox"/>	<input type="checkbox"/>	<input type="checkbox"/>
Üretilen sütlerin, soğuk hava kamyonlarıyla marketlere götürülmesi	<input type="checkbox"/>	<input type="checkbox"/>	<input type="checkbox"/>	<input type="checkbox"/>
Süt ve süt ürünlerinin, soğutucuların bulunduğu reyonlarda satışa sunulması	<input type="checkbox"/>	<input type="checkbox"/>	<input type="checkbox"/>	<input type="checkbox"/>
Satın alınan sütlerin, beslenme ihtiyacımızı karşılaması	<input type="checkbox"/>	<input type="checkbox"/>	<input type="checkbox"/>	<input type="checkbox"/>


85. Aşağıdaki ifadelerin, ilgili oldukları ekonomik faaliyetleri yanlarındaki kutuya "X" işareti ile belirtiniz.


FAALİYET	ÜRETİM	TÜKETİM	DAĞITIM
Tarlaya buğday ekmek			
EBA da ders dinlemek için bilgisayar almak			
İnternette alışveriş yapmak			
Evde reçel yapmak			
Bahçeye ceviz ağacı dikmek			
Günlük çıkan gazeteleri şehirlere göndermek			
Bakkaldan ekmek almak			
Ağaçtan flüt yapmak			
Mektupları sahiplerine teslim etmek			
Sinemaya gitmek			


86. Aşağıda sütün yoğurt oluncaya kadar geçirdiği aşamalar anlatılmıştır. Bu aşamaları numaralandırarak sıralayınız.


 Sağılan sütün fabrikalara gönderilir.

 Yoğurt, soğutucu reyonlarda satışa sunulur.

 Satın aldığımız yoğurt ile ihtiyacımızı gideririz.

 Çiftliklerde beslenen inekler sağılır.

 Fabrikalardan pastörize edilen sütlerden yoğurt elde edilir.

 Üretilen yoğurt soğuk hava kamyonlarıyla marketlere dağıtılır.

87. Aşağıdaki ifadelerden bilinçli tüketici davranışı olanları “√” ile işaretleyiniz.

	Davranışlar	
1	Aldığı bir ürün bozuk çıktığında onu çöpe atar.	
2	Paketlenmiş gıda ürünlerinin paketlenme ve son kullanma tarihine mutlaka bakar.	
3	Alışverişlerinde TSE damgalı ürünleri tercih eder.	
4	Tüketici olarak haklarını bilir ve kullanır.	
5	Satın alacağı ürünün fiyat ve kalitesini araştırmadan ürünü rastgele satın alır.	
6	Alışveriş yaparken fiş ya da fatura istemez.	
7	Alışverişe çıkmadan önce alışveriş listesi hazırlar.	
8	Bütçesine göre alışveriş yapar.	
9	Alışveriş yaparken isteklerine öncelik verir.	
10	Dayanıklı tüketim malları alırken malın “Garanti Belgesi” olmasına dikkat eder.	

88. Aşağıda verilen ifadeler doğru ise “D” yazan sütündeki harfi, yanlış ise “Y” yazan sütündeki harfi daire içine alınız. Daire içine aldığınız harfleri şifre kutusuna sırasıyla yazınız.

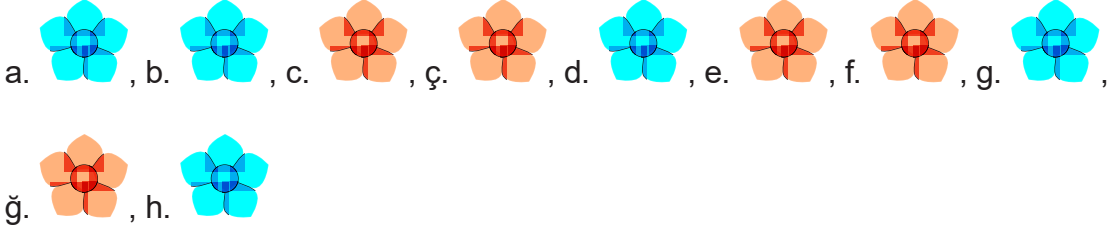
CÜMLELER		D	Y
1	Satın alacağımız ürünlerde TSE, CE veya ISO damgalarından birinin bulunmasına dikkat etmeliyiz.	B	C
2	Alışveriş yaparken fiş ya da fatura almaya gerek yoktur.	J	İ
3	Aile bütçemizi hazırlarken gelir ve giderlerin denk olmasına dikkat etmeliyiz.	L	M
4	Ekmek israfını azaltmak için paketli ekmek tüketimi arttırılabilir.	İ	K
5	Suyun bilinçsizce tüketilmesi hâlinde barajlardaki elektrik üretimi artar.	M	N
6	Beslenme ve barınma, insanların sosyal ihtiyaçlarındandır.	D	Ç
7	Dayanıklı tüketim maddeleri alırken garanti belgesinin olmasına dikkat etmeliyiz.	L	M
8	İnsanların ihtiyaçlarının yanında istekleri de vardır.	İ	J
9	Alınacak mal veya hizmetlerin, ihtiyaçları karşılama özelliğine fayda denir.	T	U
10	Bir ürünün tüketiciye ulaşması için ilgili yerlere götürülmesine üretim denir.	V	Ü
11	İnsanlar, geçimlerini sağlayabilmek için ekonomik faaliyetlerde bulunurlar.	K	L
12	Otel işletmeciliği, tercüman, servis elemanları, tur operatörleri turizmle ilgili mesleklerdendir.	E	F
13	Araba temel ihtiyaçlarımızdan biridir.	S	T
14	İzmit, pek çok alanda sanayi kuruluşunun bulunduğu bir şehrimizdir.	İ	K
15	Aldığımız ürünlerin kaliteli olduğunu pahalı olmasından anlarız.	B	C
16	Okullar üretim yapılan yerlerdir.	H	İ
17	Televizyon alırken son kullanma tarihine bakmalıyız.	P	O
18	Ürünlerin, fabrikadan satış yerlerine ulaştırılmasına dağıtım denir.	L	M
19	Kullanılmış kâğıtları geri dönüşüme kazandırarak kâğıt israfını önleyebiliriz.	A	E
20	Toplumun ve insanların ihtiyaçlarının karşılanması için tüketim yapılır.	K	L
21	İsteklerin önem sırası kişiye göre değişebilir.	İ	E
22	Paketlenmiş gıda maddeleri tazeliklerini her zaman korur.	L	M

1	2	3	4	5	6	7	8	9	10	11	12	13	14	15	16	17	18	19	20	21	22	

CEVAP ANAHTARI

1. C	11. A	21. B	31. C	41. D	51. C
2. A	12. B	22. C	32. B	42. C	52. C
3. D	13. A	23. D	33. D	43. C	53. A
4. C	14. A	24. B	34. A	44. B	54. D
5. D	15. D	25. A	35. A	45. B	55. B
6. D	16. D	26. C	36. B	46. D	
7. C	17. A	27. A	37. D	47. C	
8. D	18. C	28. B	38. B	48. A	
9. D	19. B	29. B	39. C	49. B	
10. C	20. C	30. B	40. C	50. D	

56.



57. Öğrenci cevapları.

58. 1-Taş kömürü, 2- Sanayi, 3- Çay üretimi, 4-Turizm, 5- Fındık üretimi

59. a.  , b.  , c.  , ç.  , d.  , e. 

60.	Ekonomik Faaliyetler	Üretim	Dağıtım	Tüketim
	Ürünlerin yurt dışına ihraç edilmesi		√	
	Yetiştirilen zeytinlerin işlenerek zeytin yağı elde edilmesi	√		
	Mağazalardan ihtiyacımız olan giysiler almak			√
	Ham olarak fabrikaya getirilen petrolün rafineride işlenerek benzin haline dönüştürülmesi	√		
	Pamukların iplik haline dönüştürülerek tekstil ürünleri elde edilmesi	√		
	Fabrikalarda üretilen ürünlerin satış yerlerine ulaştırılması		√	
	Buğdayın fabrikalarda işlenerek un hâline dönüştürülmesi	√		
	Marketten alışveriş yapmak			√
	Çiftlikte beslenen hayvanlardan süt, tereyağı peynir gibi ürünler elde edilmesi	√		
	Çiftlik ürünlerinin halka ve marketlere ulaştırılması		√	
	Fırından ekmek almak			√
	Patatesin işlenerek cips ve çerez hâline dönüştürülmesi	√		

61. 1. TSE, 2. sanayi, 3. su israfı, 4. üretim, 5. meslek, 6. hayvancılık, 7. istek, 8. gider, 9. israf, 10. ziraat mühendisliği, 11. seracılık, 12. ekmek israfı, 13. balıkçılık, 14. tüketim

62. 1. D, 2. D, 3. D, 4. Y, 5. Y, 6. D, 7. D, 8. Y, 9. Y, 10. D

63. 1- Zaman israfı, 2- Giysi israfı, 3- Kağıt israfı, 4- Elektrik israfı, 5- Su israfı, 6- Ekmek israfı

64. 1. Y, 2. Y, 3. D, 4. D, 5. D, 6. D, 7. D, 8. Y, 9. D, 10. D

65.	EKONOMİK FAALİYET	ÜRETİM	DAĞITIM	TÜKETİM
	Mağazadan oyuncak satın almak			X
	Fırından ekme almak			X
	Çiftçinin tarlasına patates ekmesi	X		
	Undan ekme yapmak	X		
	Tahta parçalarından masa, sandalye yapmak	X		
	Kargo şirketinin paketleri adrese ulaştırması		X	
	Pazardan domates almak			X
	Sütleri dondurma fabrikasına götürmek		X	
	Fabrikada biber salçası yapmak	X		
	Yemek yemek			X

66.	Okullarımıza ders kitaplarının ulaşması	dağıtım
	Ders kitaplarının basılması	üretim
	Çocuk kitapları satın alınması	tüketim
	Araçların, fabrikada montajının yapılması	üretim
	Fabrikanın, kolay ulaşım yolları üzerinde olması	dağıtım
	İnsanların, araç alıp kullanması	tüketim
	Salataya zeytinyağı katılarak yenmesi	tüketim
	Zeytinlerin toplanıp zeytinyağı yapılması	üretim
	Zeytinyağının marketlere ulaşması	dağıtım
	Buğdayın, fabrikada un hâline geldikten sonra fırınlara ulaştırılması	dağıtım
	Fırından ekme alınması	tüketim
	Ekilen buğdayın toplanması	üretim

67. a. , b. , c. , ç. , d. , e. , f. , g. 

68. 1. Eylül, 2. Aralık, 3. 100 TL., 4. Ekim, 5. Eylül, 6. 1500 TL, 7. Eylül/Kasım

69. Hafta içi aksatmadan okula giderim.	Eğitim
Günde üç öğün yemek yerim.	Beslenme
Evimizin akıtan çatısını tamir ettik.	Barınma
Dişim ağrıdığı için doktora gittim.	Sağlık
Ayakkabım küçüldüğü için yeni bir ayakkabı aldık.	Giyim

70. 	Ürünün Türk Standartları Enstitüsü standartlarına uygun olarak üretildiğini gösterir.
	Ürünün ambalajının geri dönüştürülebilir bir malzemeden üretildiğini gösterir.
	Uluslararası Standart Organizasyonuna göre ürün belirlenen ihtiyaçları karşılamaktadır.
	Ürünün Avrupa Birliğinin koyduğu standartlara uygun olarak üretildiğini gösterir.
	Barkod numarasının 868-869 ile başlaması o ürünün Türkiyede üretildiğini gösterir.

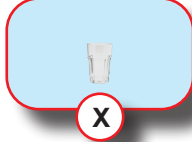

71. 1. Y, 2. Y, 3. D, 4. D, 5. Y, 6. D, 7. D, 8. D, 9. Y, 10. D

72. 1. TSE 2. ham madde, 3. garanti belgesi, 4. son kullanma, 5. hakem, 6. aile bütçesi, 7. üretim

73. 1. garanti belgesi, 2. fatura, 3. Türk malı, 4. ham madde, 5. bütçe, 6. tutumlu, 7. gelir

74. 1. Sosyal ve Kültürel, 2. Temel, 3. Temel, 4. Sosyal ve Kültürel

75.



76.



77.

MESLEKLER	EKONOMİK FAALİYETLER				
	TARIM	SANAYİ	TURİZM	HİZMET	ULAŞIM
Öğretmen				X	
Pilot					X
Turist Rehberi			X		
Doktor				X	
Çiftçi	X				
Balıkçı				X	
Polis				X	
Fabrika İşçisi		X			

78.

İhtiyaç ve isteklerini ayırt edebilmelidir.

X

Alışveriş listesi oluşturmalıdır.

X

Sadece hoşuna giden ürünleri almalıdır.

İndirimli fiyatı olan tüm ürünlerden almalıdır.

İsraftan kaçınmalıdır.

X

Satın alacağı ürünün kalitesini bilmelidir.

X

Alışveriş yaparken ithal ürünlere öncelik tanımalıdır.

Son kullanma tarihine dikkat ederek zaman harcamamalıdır.

İhtiyaç önceliğine göre alışveriş yapmalıdır.

X

79.



Hayvancılık



Madencilik



Sanayi



Seracılık



Tarım



Turizm



Arıcılık



Ulaşım



Balıkçılık

80. 1. D, 2. Y, 3. D, 4. Y, 5. D, 6. D, 7. Y, 8. D, 9. D, 10. Y

81. 1. X, 2. √, 3. √, 4. √, 5. X, 6. √, 7. √, 8. √, 9. √, 10. X 11. X, 12. √

82. Öğrenci Cevabı

83 1. Ücret, 2. Bütçe, 3. İsrar, 4. Gelir, 5. Gider, 6. Meslek, 7. Üretim, 8. Tüketim, 9. TSE,
10. Dağıtım, 11. İhtiyaç

84.

	Ham Madde	Üretim	Dağıtım	Tüketim
Çiftliklerde beslenen ineklerin sağılması	√			
Sağılan sütlerin, süt fabrikalarına götürülmesi			√	
Fabrikalarda pastörize edilen süttten; peynir, yoğurt, ayran gibi süt ürünleri elde edilmesi		√		
Üretilen sütlerin, soğuk hava kamyonlarıyla marketlere götürülmesi			√	
Süt ve süt ürünlerinin, soğutucuların bulunduğu reyonlarda satışa sunulması				√
Satın alınan sütlerin, beslenme ihtiyacımızı karşılaması				√

85.

FAALİYET	ÜRETİM	TÜKETİM	DAĞITIM
Tarlaya buğday ekmek	X		
EBA da ders dinlemek için bilgisayar almak		X	
İnternette alışveriş yapmak		X	
Evde reçel yapmak	X		
Bahçeye ceviz ağacı dikmek	X		
Günlük çıkan gazeteleri, şehirlere göndermek			X
Bakkaldan ekmek almak		X	
Ağaçtan flüt yapmak	X		
Mektupları sahiplerine teslim etmek			X
Sinemaya gitmek		X	

86. 1. Çiftliklerde beslenen inekler sağılır.
 2. Sağılan süt fabrikalara gönderilir.
 3. Fabrikalardan pastörize edilen sütlerden yoğurt elde edilir.
 4. Üretilen yoğurt soğuk hava kamyonlarıyla marketlere dağıtılır.
 5. Yoğurt, soğutucu reyonlarda satışa sunulur.
 6. Satın aldığımız yoğurt ile ihtiyacımızı gideririz.

87.	Davranışlar	
1	Aldığı bir ürün bozuk çıktığında onu çöpe atar.	
2	Paketlenmiş gıda ürünlerinin paketlenme ve son kullanma tarihine mutlaka bakar.	√
3	Alışverişlerinde TSE damgalı ürünleri tercih eder.	√
4	Tüketici olarak haklarını bilir ve kullanır.	√
5	Satın alacağı ürünün fiyat ve kalitesini araştırmadan ürünü rastgele satın alır.	
6	Alışveriş yaparken fiş ya da fatura istemez.	
7	Alışverişe çıkmadan önce alışveriş listesi hazırlar.	√
8	Bütçesine göre alışveriş yapar.	√
9	Alışveriş yaparken isteklerine öncelik verir.	
10	Dayanıklı tüketim malları alırken malın "Garanti Belgesi" olmasına dikkat eder.	√

88.	1	2	3	4	5	6	7	8	9	10	11	12	13	14	15	16	17	18	19	20	21	22		
	B	İ	L	İ	N	Ç	L	İ		T	Ü	K	E	T	İ	C	İ		O	L	A	L	I	M