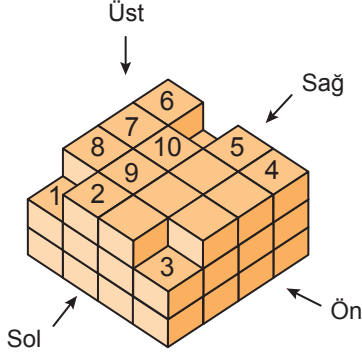


### Cisimlerin Farklı Yönlerden Görünümleri - 2

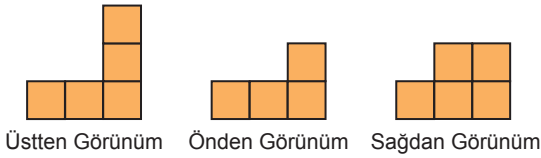
1. Aşağıda birimküplerden oluşmuş bir şekil verilmiştir. Bu şeklin üzerindeki birimküplerin bazıları numaralandırılmıştır.



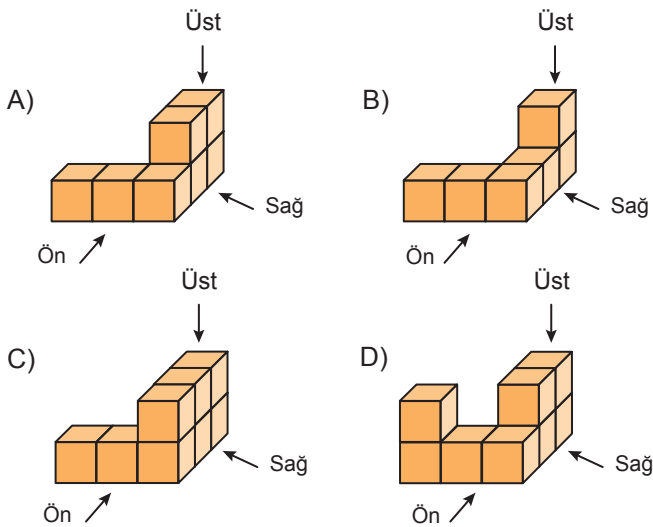
Buna göre, aşağıdakilerden hangisi doğrudur?

- A) 4, 5 ve 6 numaralı küpler çıkarıldığında yapının sağdan görünümü değişir.
- B) 2, 9 ve 10 numaralı küpler çıkarıldığında yapının önden görünümü değişir.
- C) 1, 2 ve 3 numaralı küpler çıkarıldığında yapının üstten görünümü değişir.
- D) 6, 7 ve 8 numaralı küpler çıkarıldığında yapının soldan görünümü değişir.

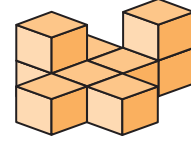
2. Aşağıda birimküplerle oluşturulmuş bir yapının üstten, önden ve sağdan görünümü verilmiştir.



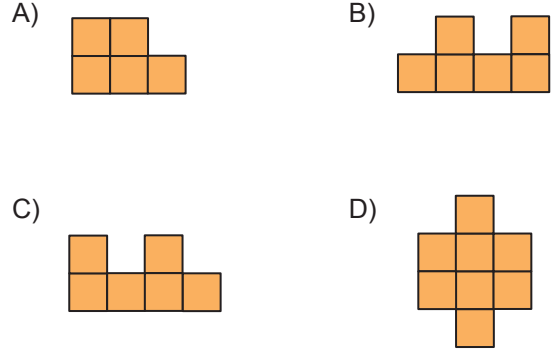
Buna göre, bu yapı aşağıdakilerden hangisi olabilir?




3.



Aşağıdakilerden hangisi verilen yapının herhangi bir yönden görünümü olamaz?

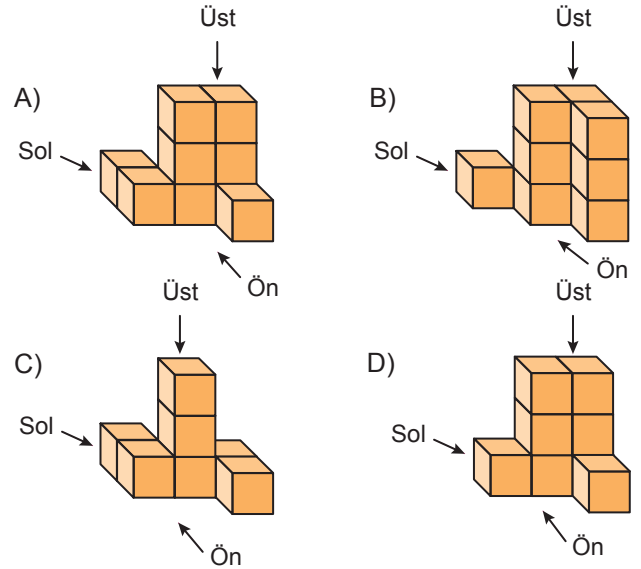


4.

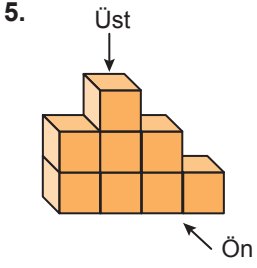


Yukarıda birimküplerle oluşturulmuş bir yapının farklı yönlerden görünümü verilmiştir.

Buna göre, bu yapı aşağıdakilerden hangisi olabilir?

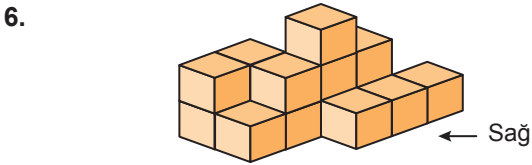
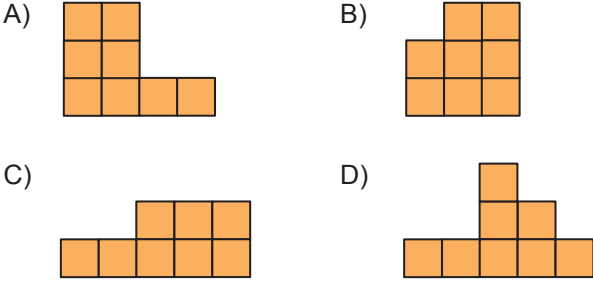


Cisimlerin Farklı Yönlerden Görünümleri - 2

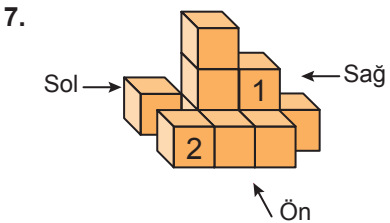
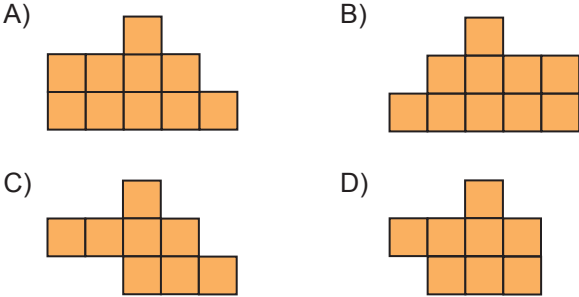


Yanda verilen 8 birimküpten oluşan yapının üstten görünümü değişmeyecek şekilde bir küpün yeri değiştiriliyor.

Buna göre, oluşan yapının önden görünümü aşağıdakilerden hangisi olabilir?



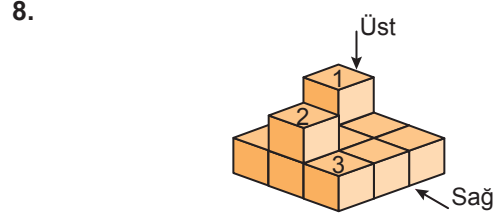
Şekildeki yapının sağdan görünümü aşağıdakilerden hangisidir?



Yanda birimküplerle oluşturulmuş bir yapı verilmiştir.

Buna göre, aşağıdaki ifadelerden hangisi doğrudur?


- A) 1 numaralı küpün üzerine bir küp eklendiğinde sağdan görünümü değişir.
- B) 2 numaralı küp çıkarıldığında soldan görünümü değişir.
- C) 1 numaralı küpün üzerine bir küp eklendiğinde önden görünümü değişir.
- D) 2 numaralı küp çıkarıldığında üstten görünümü değişmez.



- I. 1 numaralı küp çıkarıldığında yapının üstten görünümü değişir.
- II. 2 numaralı küp 3 numaralı küpün üstüne alınırsa yapının sağdan görünümü değişmez.
- III. 1 ve 2 numaralı küpler 3 numaralı küpün üstüne alınırsa yapının üstten görünümü değişir.

Yukarıda birimküplerle oluşturulmuş bir yapı ile ilgili verilen bilgilerden hangileri doğrudur?

- A) Yalnız II
- B) Yalnız III
- C) I ve II
- D) II ve III



Aşağıdakilerden hangisi şekildeki yapının herhangi bir yönden görünümü değildir?

